

Nama :
Jenjang : SMALB
Kelas : XII (Duabelas)
NIS :

Nilai	Paraf

1. Contoh hewan yang **hidup di darat** adalah
A. ubur-ubur
B. lumba-lumba
C. ayam
D. gurita
2. Contoh hewan yang **hidup di air** adalah
A. ayam
B. ikan
C. kelinci
D. kambing
3. Ikan dan ubur-ubur adalah contoh hewan yang hidup di
A. air
B. darat
C. udara
D. tanah
4. Kucing dan kelinci adalah contoh hewan yang hidup di
A. air
B. darat
C. udara
D. laut
5. Contoh hewan yang dapat hidup di **darat dan di air** adalah
A. lumba-lumba
B. kucing
C. kambing
D. kura-kura
6. Habitat yang tepat untuk hewan unta adalah
A. daerah bersalju
B. gurun pasir
C. laut
D. danau

7. Eceng gondok adalah jenis tanaman yang hidup di
 A. air
 B. tanah
 C. pasir
 D. bebatuan
8. Jenis tumbuhan yang dapat hidup di padang pasir adalah
 A. pohon stroberi
 B. pohon rambutan
 C. pohon kurma
 D. pohon bayam
9. Contoh manfaat ayam untuk kehidupan manusia adalah
 A. sumber energi
 B. sumber makanan
 C. sumber oksigen
 D. sumber minuman
10. Mata digunakan untuk. . . .
 A. melihat
 B. mendengar
 C. meraba
 D. merasa
11. Telinga digunakan untuk. . . .
 A. melihat
 B. meraba
 C. mendengar
 D. merasa
12. Tangan digunakan untuk
 A. melihat
 B. meraba
 C. mendengar
 D. merasa
13. Lidah digunakan untuk
 A. merasakan rasa
 B. melihat
 C. mendengar
 D. melihat
14. Alat yang digunakan untuk membersihkan telinga adalah
 A. lidi
 B. tisu
 C. air
 D. cotton bud
15. Alat yang digunakan untuk membersihkan lidah adalah. . . .
 A. air
 B. tisu
 C. sikat gigi
 D. cotton buud

16. Contoh benda yang menggunakan perubahan energi listrik menjadi gerak adalah

A.



C.



B.



D.



17.



Gambar di samping merupakan contoh sumber energi

A. matahari

B. listrik

C. angin

D. air

18.



Gambar di samping merupakan contoh energi

A. cahaya

B. listrik

C. bunyi

D. panas

19. Sumber energi terbesar di bumi adalah

A. matahari

C. listrik

B. bulan

D. tanah

20. Contoh kegiatan yang memerlukan energi matahari adalah

A. mencuci pakaian

B. memasak nasi

C. menjemur sepatu

D. menonton televisi

21. Contoh alat komunikasi tradisional adalah

A. kentongan

C. hp

B. tv

D. laptop

22. Gambar yang tepat teknologi komunikasi modern adalah

A.



C.



B.



D.



23. Di bawah ini yang merupakan cara merawat kandang hewan adalah

- A. merusak kandang
- B. tidak membersihkan kandang
- C. membuang sampah di kandang
- D. membersihkan kandang

24. Di bawah ini yang merupakan cara merawat hewan adalah

- A. tidak memberi makan
- B. memandikan hewan
- C. menyakiti hewan
- D. tidak membersihkan kandang


25.



Pada gambar di samping kucing sedang

- A. mandi
- B. lari
- C. jalan
- D. makan


Perhatikan gambar di bawah ini




26. Pada gambar di atas setelah hewan anjing dimandikan, kita harus
- A. memberi makan hewan anjing dengan menggunakan mangkok
 - B. menyiram hewan anjing dengan menggunakan air
 - C. mengeringkan badan hewan anjing menggunakan handuk
 - D. memakaikan baju pada hewan anjing yang bersih


27. Di bawah ini merupakan nama laki-laki adalah
- A. Ika
 - B. Khanisya
 - C. Shela
 - D. Faruq

28. Di bawah ini merupakan nama perempuan adalah
- A. Alvin
 - B. Khanisya
 - C. Faruq
 - D. Dafa

29.  Pada gambar disamping ciri-ciri anak laki-laki rambutnya. . . .
- A. panjang
 - B. pendek
 - C. lebar
 - D. banyak

30.  Pada gambar disamping ciri-ciri anak perempuan rambutnya
- A. panjang
 - B. pendek
 - C. lebar
 - D. banyak

Perhatikan gambar di bawah ini untuk menjawab soal nomor 31 dan 32!



31. Tahapan pertumbuhan manusia pada **masa balita** ditunjukkan oleh nomor
- A. 4
B. 3
C. 2
D. 1
32. Tahapan pertumbuhan manusia yang ditunjukkan oleh **nomor 6** adalah
- A. balita
B. lansia
C. dewasa
D. remaja
33. Di bawah ini yang merupakan ciri-ciri pertumbuhan anak laki-laki pada masa remaja adalah
- A. tumbuh kumis
B. mengalami menstruasi
C. tumbuh payudara
D. pinggul membesar

34. Di bawah ini gambar hewan yang hidup di air adalah. . . .



35. Yang merupakan makanan hewan **Tikus** adalah
- A. Ikan
B. rumput
C. kaktus
D. jagung

36. Kegiatan yang memerlukan cahaya matahari adalah
- A. menjemur sepatu
 - B. mencuci motor
 - C. menonton televisi
 - D. mencuci piring
37. Manfaat cahaya matahari bagi pengusaha ikan asin adalah untuk . . .
- A. menjemur sepatu
 - B. menjemur ikan asin
 - C. menjemur kerupuk
 - D. menggoreng ikan asin
38. Manfaat cahaya matahari bagi tumbuhan adalah
- A. melakukan fotosintesi
 - B. melakukan pelapukan
 - C. untuk menjemur buah
 - D. untuk menyuburkan buah
39. Saat terbenam, cahaya matahari berwarna
- A. kuning kemerahan
 - B. putih kemerahan
 - C. oren kemerahan
 - D. ungu kemerahan
40. Setelah mencuci baju kita harus
- A. menjemur
 - B. membiarkan
 - C. mencuci kembali
 - D. memberi sabun

II. Isilah pertanyaan dibawah ini dengan jelas dan benar !

41. Yang merupakan panca indra mendengar adalah
42. Contoh hewan air adalah
43. Contoh hewan yang berkembangbiak dengan cara melahirkan adalah
44. Contoh hewan darat adalah
45. Contoh kegiatan yang memerlukan cahaya matahari