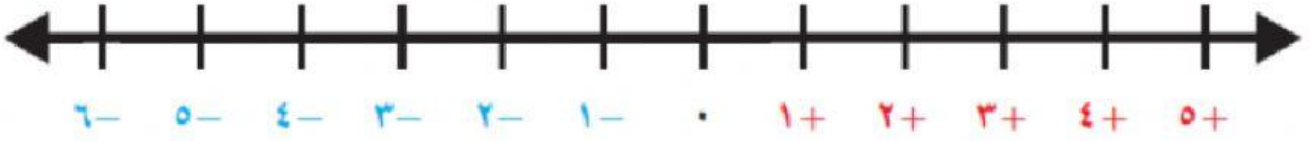




التاريخ: / / ٢٠٢٢ م	تمثيل الأعداد الصحيحة	الفصل السادس
الدرجة	أن تمثل طالبة العدد الصحيح على خط الأعداد	الأهداف

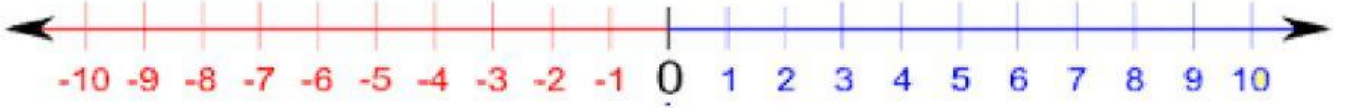
اكتب عدد يمثل كل موقف من المواقف الآتية ومثله على خط الأعداد واكتب معكوسه:

(أ) فقدان دينارين. العدد هو -----



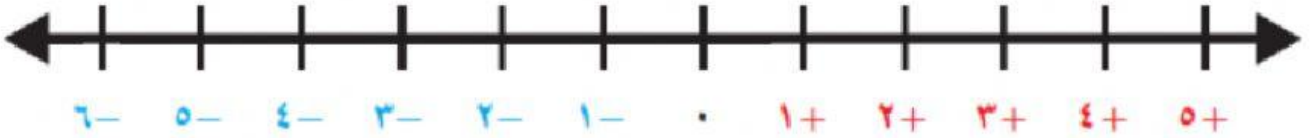
معكوس العدد: -----

(ب) ٩ درجات فوق الصفر. العدد هو -----



معكوس العدد: -----

(ج) خصم ٦ درجات من الدرجة الكلية. العدد هو -----



معكوس العدد: -----

إعداد الأستاذة سكيبة منصور علي