

ESCOLA DE EDUCAÇÃO BÁSICA				
Ensino Fundamental		Disciplina: Matemática		
Trabalho de Matemática		Trimestre: 1º		
Nome:			Nº	
Data:    /    / 2022	Período: M (    ) T (    )		2º Ano	
Professora:				

#### Instruções:

1. Faça com atenção.
2. Valor 4,0.

#### CrITÉrios de Correção:

1. O cumprimento do que foi estabelecido nas instruções.
2. As questões sem resolução serão desconsideradas.

## Trabalho Interativo de Matemática 1º Trimestre


### NA FEIRA



1)

Todos os sábados, Dona Tereza vai à feira fazer compras. Observe a quantidade de frutas que foram compradas por ela e escreva o número correspondente ao total:

#### UMA DÚZIA DE MAÇÃS




#### MEIA DÚZIA DE PERAS



UMA DÚZIA E MEIA  
DE LARANJAS



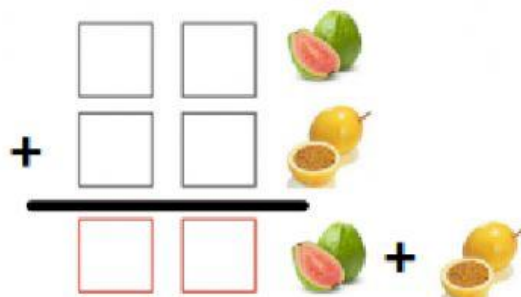
DUAS DÚZIAS  
DE BANANAS



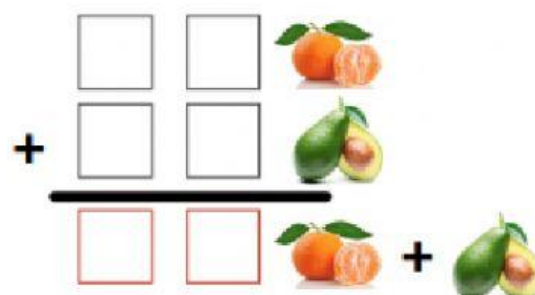
2)

leia com bastante atenção, cada uma das histórias matemáticas a seguir, faça os cálculos e resolva as situações-problema:

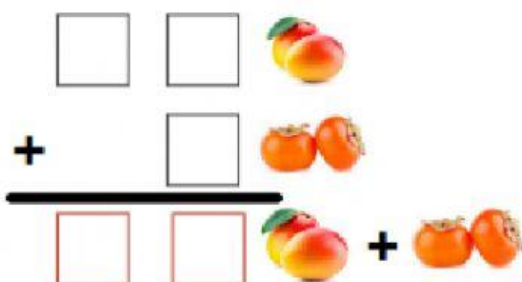
GABRIEL COMPROU UMA DÚZIA DE GOIABAS E DUAS DÚZIAS DE MARACUJÁS. QUANTAS FRUTAS ELE COMPROU NO TOTAL?



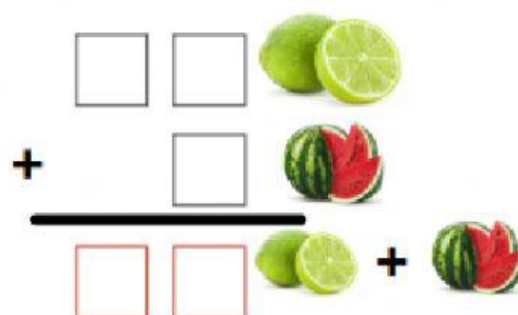
CLARA COMPROU DUAS DÚZIAS DE TANGERINAS E DUAS DÚZIAS DE ABACATES. QUANTAS FRUTAS ELA COMPROU AO TODO?



ÉRICA COMPROU UMA DÚZIA DE MANGAS E MEIA DÚZIA DE CAQUIS. QUANTAS FRUTAS ELA COMPROU NO TOTAL?




LUCAS COMPROU UMA DÚZIA E MEIA DE LIMÕES E UMA MELANCIA. QUANTAS FRUTAS ELE COMPROU AO TODO?




3)

ESCREVA EM CADA GRUPO DE FRUTAS QUANTAS UNIDADES FALTAM PARA COMPLETAR **UMA DÚZIA**:



5 MORANGOS PARA **UMA DÚZIA**  
FALTAM  UNIDADES




7 PÊSSEGOS PARA **UMA DÚZIA**  
FALTAM  UNIDADES





**3 AMEIXAS PARA UMA DÚZIA**

FALTAM  UNIDADES



**8 CAJUS PARA UMA DÚZIA**

FALTAM  UNIDADES

Boa atividade!

Confio em você! 😊 ❤️