



**PENILAIAN TENGAH SEMESTER  
DINAS PENDIDIKAN KOTA PALEMBANG  
SEKOLAH DASAR NEGERI 228  
TAHUN PELAJARAN 2021/2022**



**LEMBAR SOAL**

Mapel : MATEMATIKA  
Waktu : 90 Menit

Kelas/Semester : V / GENAP  
Nama :

**PETUNJUK UMUM**

- A. Isilah data diri sebelum mengerjakan ujian!
- B. Jawablah soal-soal dengan teliti!

**Matematika (KD 3.5)**

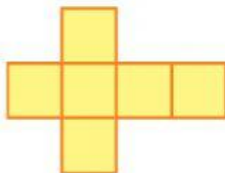
Perhatikan video berikut ini untuk menjawab pertanyaan nomor 1-3!



**SOAL PILIHAN GANDA**

1. Dari video diatas, rangkaian sisi suatu bangun ruang yang dibuka disebut . . .

- ☐ A. Bangun ruang
- ☐ B. Bangun datar
- ☐ C. Jaring-jaring
- ☐ D. Rusuk-rusuk



2. Gambar di atas merupakan jaring-jaring . . .

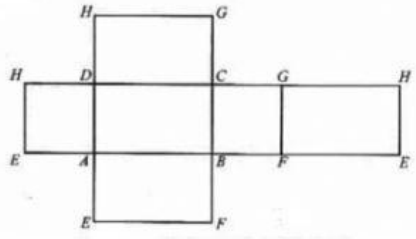
- ☐ A. Balok
- ☐ B. Kubus
- ☐ C. Prisma
- ☐ D. Segitiga

**SOAL BENAR SALAH**

3. Tentukan pernyataan – pernyataan berikut benar atau salah.  
Berilah tanda centang (✓) pada kolom **Benar** atau **Salah** yang sesuai.

Pernyataan	Benar	Salah
Jaring-jaring balok memiliki 7 sisi yang sama		
Jaring-jaring balok adalah rangkaian bidang datar persegi panjang yang apabila dirangkaiakan akan menjadi balok.		
Jaring-jaring kubus memiliki 6 sisi yang sama.		
Jaring-jaring Kubus memiliki sisi berbentuk persegi		

Amati gambar berikut ini untuk menjawab pertanyaan nomor 4-6!



#### SOAL PILIHAN GANDA KOMPLEK

Berilah tanda centang (✓) pada pernyataan yang benar!

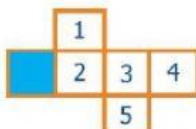

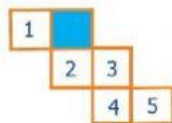

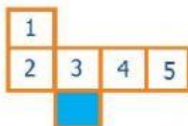
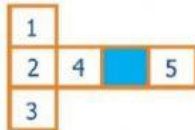
4. Berdasarkan gambar di atas, pernyataan yang sesuai adalah ....
- ☐ Jika sisi ABCD merupakan bagian alas maka sisi EFGH adalah bagian tutupnya
  - ☐ Semua rusuknya berukuran sama
  - ☐ Sisinya berbentuk persegi panjang
  - ☐ Sisinya berbentuk persegi

#### SOAL ISIAN SINGKAT

5. Jaring-jaring yang terbentang pada gambar merupakan bangun ruang ...
6. Gambar jaring-jaring di atas menunjukkan sisi yang berjumlah ...

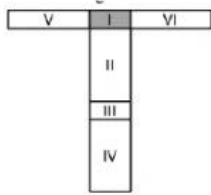
#### SOAL MENJODOHKAN DRAG & DROP

7. Jika sisi berwarna biru adalah alas kubus, maka jodohkanlah dengan tutup kubus !

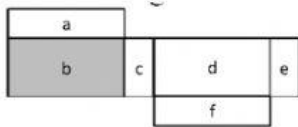


### SOAL TARIK GARIS LURUS

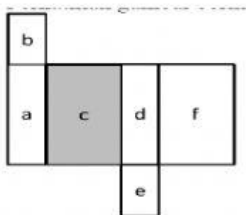
8. Tariklah garis lurus dari gambar jaring-jaring balok di kiri ke kotak kanan yang berisi nomor tutup balok !



f



I

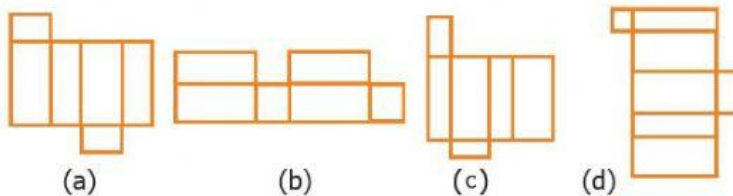


III



d

Amati gambar berikut ini untuk menjawab pertanyaan nomor 9 !



### SOAL PILIHAN GANDA KOMPLEK

Berilah tanda centang (✓) pada pernyataan yang benar!

9. Berdasarkan gambar di atas, gambar yang merupakan jaring-jaring balok adalah ....

- ☐ Gambar (a)
- ☐ Gambar (b)
- ☐ Gambar (c)
- ☐ Gambar (d)

Amati gambar berikut ini untuk menjawab pertanyaan nomor 10 !



### SOAL ISIAN SINGKAT

10. Berdasarkan gambar di atas, yang merupakan jaring-jaring kubus yang benar adalah ...