

BÀI TẬP TUẦN 23

Exercise 1: Phân loại các từ sau vào đúng cột – Animals (động vật) hoặc Toys (đồ chơi)

tiger – car – plane – hippo – balloon – bear – puppet – bird




Animals



Toys

Exercise 2: Đánh dấu (x) vào ô đúng




a) They are bears. ☐



b) They are dogs. ☐




c) They are tigers. ☐



d) They are bears. ☐




e) They are tigers. ☐




f) They are birds. ☐

Exercise 3: Nối hình thích hợp với công dụng của các loài cây sau




Exercise 4: Điền số thích hợp hoàn thành các bài toán sau



$$\square + \square = \square$$

There are ____ guitars **altogether**.



$$\square + \square = \square$$

There are ____ keys **altogether**.









Exercise 5: Nối số thích hợp vào ô trống

1 3 5

< 6 > 5

2 4 6

Exercise 6: Nghe và đánh dấu tick vào ô trống

1	a		<input type="checkbox"/>	b		<input type="checkbox"/>
2	a		<input type="checkbox"/>	b		<input type="checkbox"/>
3	a		<input type="checkbox"/>	b		<input type="checkbox"/>
4	a		<input type="checkbox"/>	b		<input type="checkbox"/>