



* isilah titik titik berikut
dengan jawaban yang benar

1  gambar di samping berbentuk

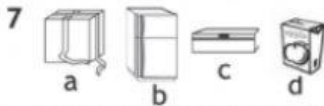
2  gambar di samping berbentuk

3 buah melon berbentuk

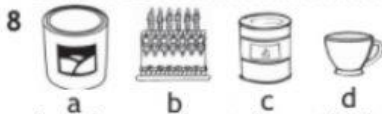
4 kaleng susu berbentuk

5  gambar di samping berbentuk


6 bus sekolah berbentuk



benda yang bentuknya tidak sejenis
adalah benda



benda yang bentuknya tidak sejenis
adalah benda



urutan benda dari yang terbesar adalah

Siapa
Cepat

ayo siapa yang bisa menjodohkan
benda dengan bentuknya yang sesuai



• kubus

• balok

• tabung

• bola

• kerucut