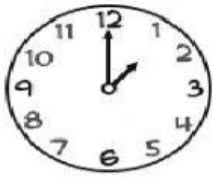
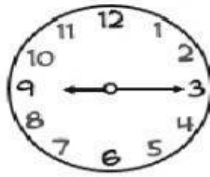


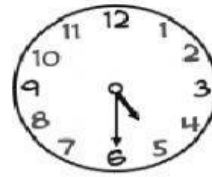
UNIDADES DE TIEMPO

1. Escribe las horas que indican los relojes.





La una en punto



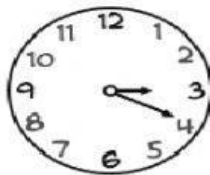















2. Marca la respuesta correcta.

a.

¿Cuántas horas tiene un día completo?

20

1. ☐

24

2. ☐

12

3. ☐

1

4. ☐

b.

¿Cuántos minutos tienen 4 horas?

240

1. ☐

200

2. ☐

60

3. ☐

180

4. ☐

c.

¿Cuántas horas tienen 5 días?

300

1. ☐

120

2. ☐

240

3. ☐

200

4. ☐