








Arahan : Padankan jenis-jenis skala berdasarkan gambarajah dengan tepat.

Jenis-jenis skala

Pecahan wakilan			1 cm mewakili 1 km
Skala penyata			
Skala lurus			1 : 100 000

Arahan : Tarik dan letak pernyataan yang betul tentang jarak.

Jarak berdasarkan kos dan masa	Tidak tetap dan berubah-ubah berdasarkan pengangkutan	Jarak tetap dan tidak berubah	Jarak dinyatakan dalam meter@kilometer
--------------------------------	---	-------------------------------	--

Jarak	Pernyataan
<p>Jarak Mutlak</p> 	<p> Tarik dan letak jawapan disini</p> <p> Tarik dan letak jawapan disini</p>
<p>Jarak Relatif</p> 	<p> Tarik dan letak jawapan disini</p> <p> Tarik dan letak jawapan disini</p>

Selesai menjawab, sila tekan "Finish" dan "Enter your full name" isi nama penuh berserta kelas (CTH : LEMAN 2M) di dalam kotak panjang putih dan tekan "Send". Lihat markah anda di atas.

