



ข้อสอบปลายภาค โรงเรียนวัดโตนด สำนักงานเขตภาษีเจริญ กรุงเทพมหานคร
ภาคเรียนที่ 2 ปีการศึกษา 2564 ชั้นประถมศึกษาปีที่ 2
สาระการเรียนรู้วิทยาศาสตร์ คะแนน 15 คะแนน เวลา 60 นาที




ชื่อ.....ชั้นประถมศึกษาปีที่ 2 เลขที่.....

คำชี้แจง ข้อสอบฉบับนี้ เป็นข้อสอบแบบปรนัย 3 ตัวเลือก จำนวน 15 ข้อ (คะแนนเต็ม 15 คะแนน)

คำสั่ง เลือกคำตอบที่ถูกต้องที่สุดเพียงคำตอบเดียว

ว 2.3 ป.2/1 (ข้อ 1 - 6)

1. แสงเคลื่อนที่ในลักษณะใด

- ก. 
- ข. 
- ค. 

2. เพราะเหตุใดจึงเกิดเงาหลังวัตถุเมื่อมีแสงตกกระทบ

- ก. เพราะแสงสว่างไม่เพียงพอ
- ข. เพราะแสงไม่สามารถเลี้ยวเบนได้
- ค. เพราะแสงต้องอาศัยตัวกลางในการเคลื่อนที่

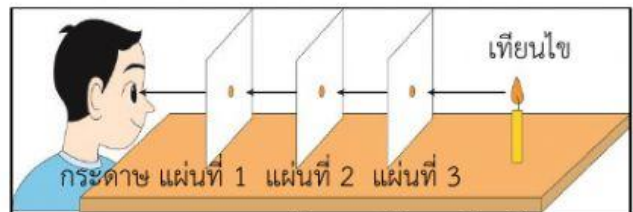
3. ข้อใดเป็นแหล่งกำเนิดแสงในธรรมชาติ

- ก. กองไฟ หลอดไฟฟ้า
- ข. ดาวเหนือ หิ่งห้อย
- ค. เทียนไข ไฟแช็ก

4. แหล่งกำเนิดแสงใดจัดอยู่ประเภทเดียวกับหิ่งห้อย

- ก. โคมไฟรูปกบ
- ข. กลุ่มดาวลูกไก่
- ค. หลอดไฟ

สังเกตภาพ ใช้ตอบคำถามข้อ 5 - 6



5. จากภาพการทดลอง ต้องการศึกษารื่องใด

- ก. การหักเหของแสง
- ข. การสะท้อนของแสง
- ค. การเคลื่อนที่ของแสง

6. ถ้าต้องการมองเห็นเทียนไขควรปฏิบัติตามข้อใด

- ก. เลื่อนกระดาษทั้ง 3 แผ่น ให้รูที่เจาะตรงกัน
- ข. เลื่อนเทียนไขให้ตรงกับรูบนกระดาษแผ่นที่ 3 เท่านั้น
- ค. เลื่อนกระดาษทั้งแผ่นที่ 1 และแผ่นที่ 3 ให้ตรงกัน

ว 2.3 ป.2/2 (ข้อ 7 - 8)

7. แหล่งกำเนิดแสงข้อใดไม่ควรมองด้วยตาเปล่า

- ก. พลุ ข. ดวงจันทร์ ค. ดวงอาทิตย์

8. รูม่านตาทำหน้าที่ในข้อใด

- ก. รับแสงให้พอเหมาะกับดวงตา
- ข. ทำให้นัยน์ตากลอกไปมา
- ค. หุ้มลูกนัยน์ตา

ว 3.2 ป.2/1 (ข้อ 9 – 11)

9. ส่วนประกอบใดที่มีมากที่สุดดิน

ก. ฮิวมัส ข. อากาศ ค. หินและแร่

10. “เนื้อดินหยาบ เม็ดดินใหญ่ ไม่เกาะกัน”

เป็นลักษณะของดินชนิดใด

ก. ดินเหนียว ข. ดินร่วน ค. ดินทราย

สังเกตภาพ ใช้ตอบคำถามข้อ 11



ดิน A

ดิน B

ดิน C

11. น้ำไหลผ่านดินชนิดใดเร็วที่สุด และไหลผ่านดินชนิดใดช้าที่สุด

ก. ดิน C เร็วที่สุด และ ดิน B ช้าที่สุด

ข. ดิน A เร็วที่สุด และ ดิน B ช้าที่สุด

ค. ดิน B เร็วที่สุด และ ดิน C ช้าที่สุด

ว 3.2 ป.2/2 (ข้อ 12)

พิจารณาข้อมูล และตอบคำถามข้อ 12.

A. หม้อดิน

B. ถนนคอนกรีต

C. ปลูกผักสวนครัว

ก. ดินเหนียว

ข. ดินร่วน

ค. ดินทราย



12. ข้อใดสัมพันธ์กันระหว่างดินกับการนำไปใช้ประโยชน์

ก. A : ค

ข. B : ก

ค. C : ข

ว 4.2 ป.2/1 - 4 (ข้อ 13 - 15)



ภาพ A



ภาพ B



ภาพ C

12. จากภาพ หาก A คือเดินหน้า C คืออะไร

ก. ถอยหลัง

ข. หันซ้าย

ค. กลับหลังหัน

14. ข้อใดเป็นการเพิ่มความสะอาดในการวาดภาพบนคอมพิวเตอร์

ก. ใช้เมาส์หลายตัวในเวลาเดียวกัน

ข. ทำความสะอาดเมาส์ให้ใหม่อยู่เสมอ

ค. วาดภาพผ่านจอสัมผัสโดยใช้เมาส์ปากกา

15. ข้อใดกล่าวถูกต้องเกี่ยวกับการดูแลรักษาคอมพิวเตอร์

ก. ใช้ผ้าเปียกเช็ดเพื่อทำความสะอาด

ข. ใช้แปรงขัดหน้าจอคอมพิวเตอร์ให้ใหม่อยู่เสมอ

ค. ใช้พลาสติกหรือผ้าคลุมทุกครั้งหลังเลิกใช้งาน

เก่งมากจ้า
เด็กๆ

