







INSTITUCIÓN EDUCATIVA JOSÉ ANTONIO GALÁN
CIENCIAS ECONÓMICAS Y POLÍTICAS
GRADO DÉCIMO
SECTORES ECONÓMICOS

NOMBRE: _____


1. Identifica a que sector económico corresponde cada definición.

DEFINICIÓN	SECTOR PRIMARIO	SECTOR SECUNDARIO	SECTOR TERCIARIO	SECTOR CUATERNARIO
Transforma las materias primas				
Genera servicios para una comunidad				
Se desarrolla en fábricas				
La silvicultura hace parte de este sector				
Las empresas de recreación hacen parte de este sector.				
La industria robótica hace parte de este sector				
De él se obtienen productos elaborados				

2. Coloca la imagen en el lugar correspondiente.

	Sector primario	Sector secundario	Sector terciario	
				
				
				

3. Elige sólo las imágenes que corresponden a materias primas.



4. Selecciona el sector al que pertenece la imagen.



Sector primario

Sector secundario

Sector terciario



Sector primario

Sector secundario

Sector terciario



Sector primario

Sector secundario

Sector terciario



Sector primario

Sector secundario

Sector terciario

5. Selecciona la respuesta correcta.

¿Cuál es la característica del sector primario?

- ☐ Transforman la materia prima en productos elaborados
- ☐ Obtienen productos de la naturaleza
- ☐ Prestan diferentes servicios a las personas

¿Cuál es la característica del sector secundario?

- ☐ Transforman la materia prima en productos elaborados
- ☐ Obtienen productos de la naturaleza
- ☐ Prestan diferentes servicios a las personas

¿Cuál es la característica del sector terciario?

- ☐ Transforman la materia prima en productos elaborados
- ☐ Obtienen productos de la naturaleza
- ☐ Prestan diferentes servicios a las personas