


# COMPETENCIA-MÁS PROBABLE, MENOS PROBABLE E

CLICK PARA INSTRUCCIONES

## IGUAL DE PROBABLE


Si eliges una canica sin mirar, ¿de qué color es **menos probable** que te toque?



negro

naranja

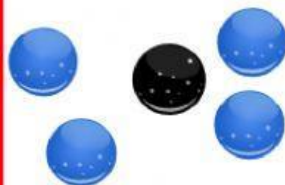
Si eliges una canica sin mirar, ¿de qué color es **más probable** que te toque?



negro

verde

Si eliges una canica sin mirar, ¿de qué color es **menos probable** que te toque?



negro

azul

¿En qué color es **más probable** que se detenga la ruleta?



blanco

rosa

tanto blanco como rosa son igual de probables

Si eliges una canica sin mirar, ¿de qué color es **más probable** que te toque?



negro

azul claro

tanto negro como azul claro son igual de probables

Si eliges una canica sin mirar, ¿de qué color es **menos probable** que te toque?



negro

naranja

tanto negro como naranja son igual de probables

¿En qué color es **más probable** que se detenga la ruleta?



blanco

verde

tanto blanco como verde son igual de probables

Si eliges una canica sin mirar, ¿de qué color es **más probable** que te toque?



negro

verde

tanto negro como verde son igual de probables