

MATEMATIKA

KELAS IV

SUDUT



Nama :

Kelas :

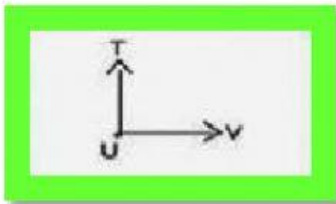
No Absen :

A. Materi Sudut

Tonton video berikut sebelum mengerjakan soal ya!



B. Tentukan nama sudut, jenis sudut dan titik sudut!

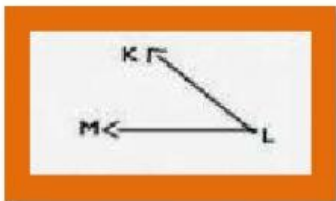


Contoh:

Nama sudut TUV atau VUT

Jenis sudut Tumpul

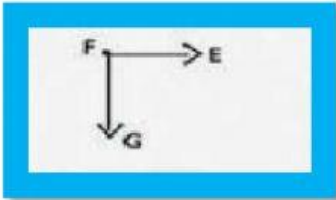
Titik sudut U



1. Nama sudut ...

Jenis sudut ...

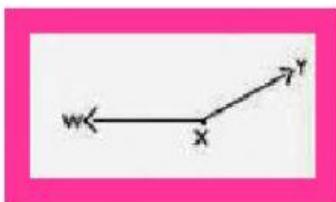
Titik sudut ...



2. Nama sudut ...

Jenis sudut ...

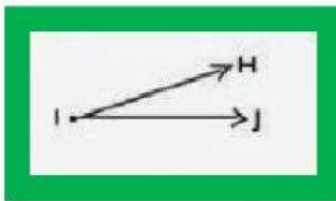
Titik sudut ...



3. Nama sudut ...

Jenis sudut ...

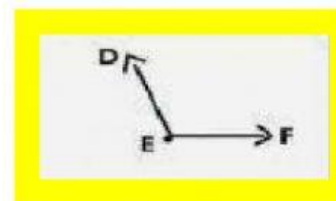
Titik sudut ...



4. Nama sudut ...

Jenis sudut ...

Titik sudut ...



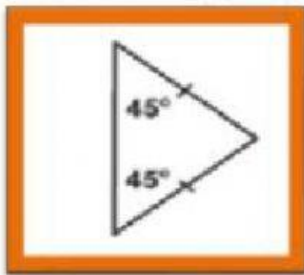
5. Nama sudut ...

Jenis sudut ...

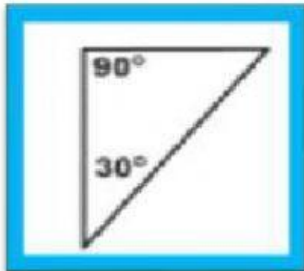
Titik sudut ...



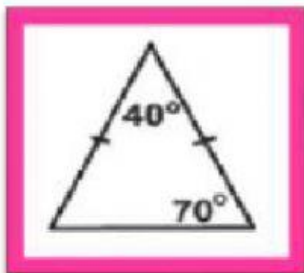
C. Tentukan besar sudut yang belum diketahui!



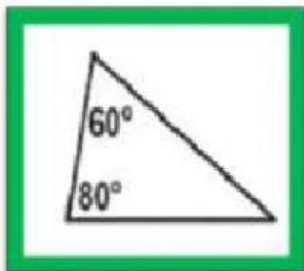
6. Besar sudut yang belum diketahui adalah



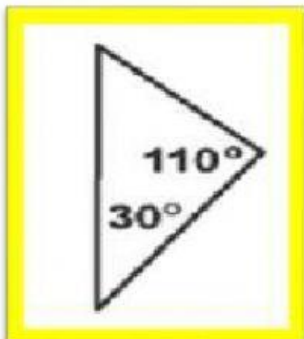
7. Besar sudut yang belum diketahui adalah



8. Besar sudut yang belum diketahui adalah



9. Besar sudut yang belum diketahui adalah



10. Besar sudut yang belum diketahui adalah

INDONESIA
Mempertahankan Menjaga

