

# EVALUACIÓN DE MATEMÁTICAS GRADO PRIMERO

## Tema: conjuntos



Nombre: \_\_\_\_\_ Marzo 14 del 2022

Marca la respuesta correcta:

1. Un conjunto es:

- ☐ Una agrupación de números
- ☐ La agrupación de elementos que tienen la misma característica.
- ☐ La reunión de diferentes elementos.

2. Los conjuntos se nombran:

- ☐ Con un nombre
- ☐ Con un número
- ☐ Con una letra mayúscula.

3. Los conjuntos los podemos representar por medio de: (marca las opciones que consideres correctas)

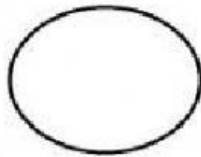


Diagrama de Venn

Z A D  
J

Por medio de letras

[ ]

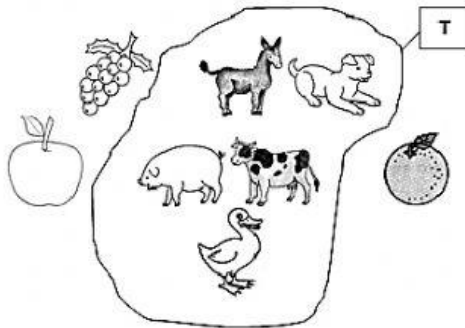
Entre llaves

4. Encierra con una X el elemento que no pertenece al conjunto.

J

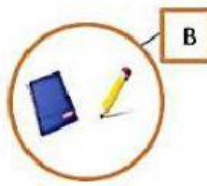



5. Escribe el signo  $\in$  o  $\notin$  según corresponda.



- |    |  |                     |
|----|--|---------------------|
| El |  | ..... al conjunto R |
| La |  | ..... al conjunto R |
| La |  | ..... al conjunto R |
| El |  | ..... al conjunto R |
| La |  | ..... al conjunto R |

6. Realiza la unión de los siguientes conjuntos.



A U B

