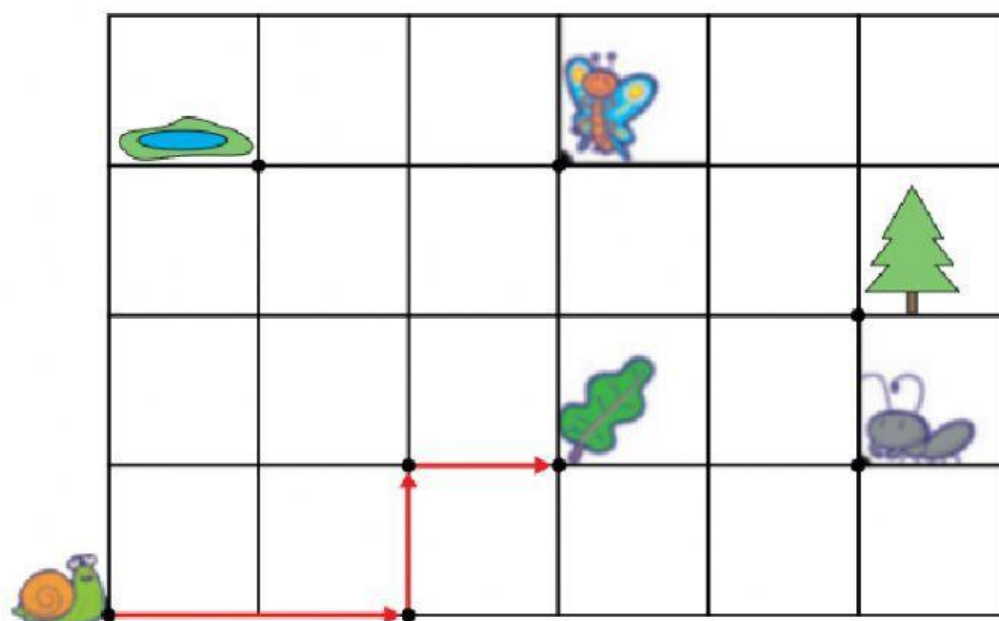


## Itinerarios



1.º Tienes marcado en rojo el camino que el caracol hace hasta la hoja de lechuga. ¿Cuál de los siguientes recorridos está haciendo? Pulsa.

2 ↑	1 →	1 ↑
1 →	1 ↑	1 →
2 →	1 ↑	1 →

2.º Observa el siguiente camino:

1 →	2 ↑	2 →	1 ↑
-----	-----	-----	-----

¿Dónde llega el caracol? Pulsa.



3.º Observa el siguiente camino:

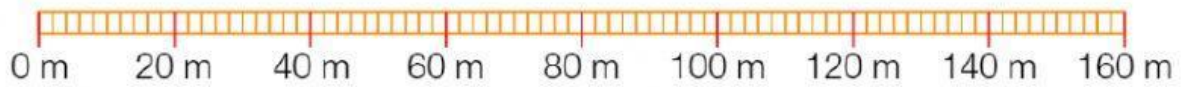
3 →	1 ↑	2 →
-----	-----	-----

¿Dónde llega el caracol? Pulsa.




4.º Ahora nos dan el siguiente dato:


En la realidad, cada lado de la cuadrícula mide 20 metros.



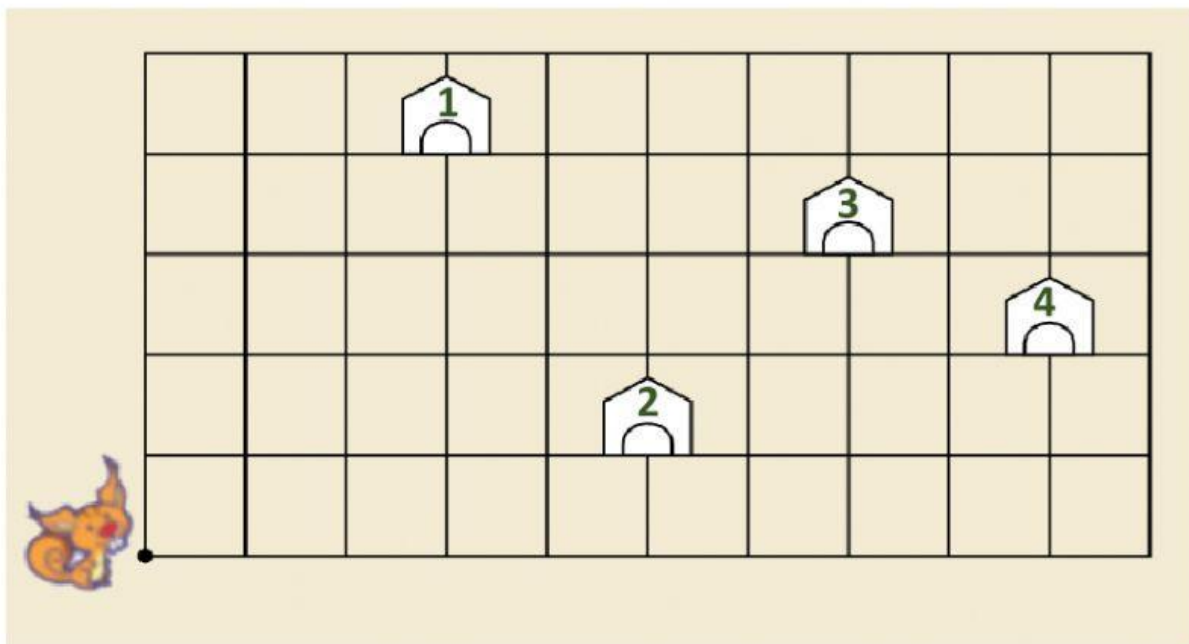
Completa:

- Para llegar a  el caracol ha recorrido      cuadraditos.  
Por lo tanto, el camino que recorre son      metros.

Completa:

- Para llegar a  el caracol ha recorrido      cuadraditos.  
Por lo tanto, el camino que recorre son      metros.

4.º Observa.



La ardilla realiza el siguiente recorrido:

4 → 3 ↑ 3 →

¿A qué caseta llega la ardilla? Selecciona.