



LEMBAR SOAL ULANGAN TENGAH SEMESTER 2

GUGUS SEKOLAH VI KECAMATAN BATU

TAHUN PELAJARAN 2021 / 2022

JL. IMAM BONJOL Gang III No. 09 Batu TELP 0341 595 733

MATA PELAJARAN : Tema 6 Subtema 1

HARI/ TGL :

NAMA :

NOMOR :

KELAS : IV (empat)

WAKTU :

PPKn

Pilihlah dengan jawaban yang benar !

1. Tugas utama seorang perawat adalah

- A. Membuat Kue
- B. Mengatur lalu lintas
- C. Merawat orang sakit
- D. Menjahit pakaian

2. Tugas utama seorang tentara ,yaitu ;....

- A. Memperbaiki mesin yang rusak
- B. Mengajar di kelas
- C. Menerbangkan pesawat
- D. Menjaga keamanan negara

3. Cita-cita adalah,...

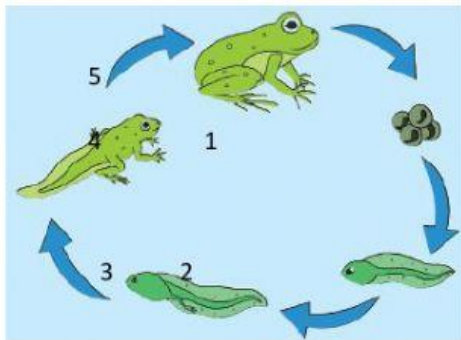
- A. khayalan seseorang tentang masa lalu
- B. Keinginan hari ini
- C. Mimpi seseorang di siang hari
- D. Harapan seseorang mengenai kegiatan atau pekerjaan yang akan dilakukan di masa depan

4. Andi bercita-cita ingin menjadi pemain sepak bola, sikap yang harus ditunjukkan Andi adalah....

- A. Bermalas-malasan
 - B. Rajin membantu ibu
 - C. Bermain dengan teman
 - D. Berlatih dengan giat
5. Yang termasuk manfaat keragaman cita-cita adalah...
- A. Menganggap cita-cita orang lain lebih rendah
 - B. Adanya persaingan untuk mencapai cita-cita
 - C. Setiap orang memiliki banyak pilihan dalam menentukan kegiatan atau pekerjaan yang akan dilakukan.
 - D. Akan muncul sikap individualisme

IPA

6. Perhatikan gambar di bawah ini !

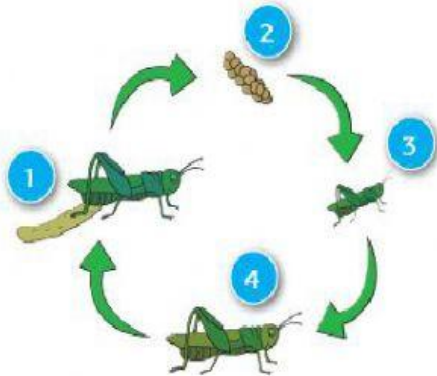


Pada gambar metamorfosis Katak yang ditunjukkan oleh gambar no.4 adalah

- A. Telur
 - B. Katak berekor
 - C. Kecebong berkaki
 - D. Imago
7. Tahapan perubahan yang dialami makhluk hidup selama hidupnya disebut ...
- A. Respirasi
 - B. Metamorfosis
 - C. Daur hidup
 - D. fotosintesis
8. Contoh hewan yang mengalami metamorfosis sempurna adalah ...

- A. Capung dan katak
- B. Lalat dan nyamuk
- C. Kupu-kupu dan kutu
- D. Lalat dan capung

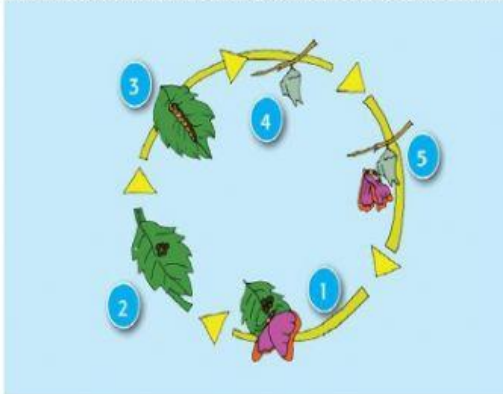
9. Perhatikan gambar di bawah ini



Pada gambar metamorfosis belalang di atas yang ditunjuk oleh no. 3 adalah...

- A. Telur
- B. Nimpa bersayap
- C. Nimpa tak bersayap
- D. Belalang dewasa

10. Perhatikan gambar metamorfosis berikut ini !



Pada gambar metamorfosis kupu-kupu di atas yang di tunjuk oleh no .4 adalah

- A. Telur
- B. Kupu-kupu dewasa
- C. Larva

D. Pupa

IPS

11. Berikut ini adalah hewan yang dapat dimanfaatkan sebagai bahan makanan, kecuali yaitu,....

- A. Bebek
- B. Sapi
- C. Kuda
- D. Buaya

12. Contoh hewan yang dapat ditenak dengan aman adalah,

- A. Harimau
- B. Buaya
- C. Ular
- D. itik

13. Bagian dari pohon pepaya yang dapat dimanfaatkan sebagai bahan makanan adalah ...

- A. Akar dan batang
- B. Buah dan daun
- C. Daun dan akar
- D. Buah dan batang

14. Di bawah ini yang merupakan bentuk kegiatan ekonomi yang memanfaatkan keragaman Hewan adalah ...

- A. Pertanian
- B. Industri
- C. Peternakan
- D. Pariwisata

15. Masyarakat perkotaan pada umumnya memiliki kegiatan ekonomi dibidang...

- A. Peternakan
- B. Perikanan
- C. Pertanian

D. Perindustrian

16. Perhatikan puisi berikut !

Desaku yang permai

Desaku yang kucinta

Pujaan hatiku

Tempat ayah bunda dan **handai taulanku**

Tak mudah kulupakan

Tak mudah bercerai

Selaluku rindukan

Desaku yang permai

Puisi di atas menceritakan tentang ...

- A. Sulitnya hidup di desa
- B. Kecintaan seseorang pada desanya
- C. Kesedihan karena hidup di desa
- D. Desanya terkena bencana

17. Setting tempat yang digambarkan penulis puisi di atas adalah

- A, perkotaan
- B. Pedesaan
- C. Pasar
- D. Hutan

18. Makna kata yang bercetak tebal dalam puisi di atas adalah

- A. Keluarga
- B. Ayah bunda
- C. Saudara
- D. Teman -teman

19. Jika seseorang membaca puisi dengan gerakan tubuh, maka sebaiknya harus,...

- A. Menggunakan teks puisi
- B. Menghafal puisi
- C. Menyontek puisi

D. Menggambar puisi

20. Apabila membaca puisi dengan baik maka seseorang harus memperhatikan,

A. Gambar puisi

B. Teks puisi

C. Judul puisi

D. Lafal,intonasi dan pemenggalan kata yang tepat

21. Guru dan Hakim menghasilkan kegiatan ekonomi berupa ...

A. Barang

B. Jasa

C. Kerajinan

D. Hasil laut

22. Rani bercita-cita menjadi seorang reporter , tugas utamanya adalah

A. Memasak makanan

B. Meliput berita dan menyampaikan kepada masyarakat

C. Mengajar

D. Menjaga keamanan

23. Kecakapan yang dimiliki setiap individu adalah ...

A. Berbeda

B. Sama

C. Seimbang

D. Sejenis

24. .berikut yang dapat diraih dengan belajar adalah...

A. Hobi

B. Cita-cita

C. Kecakapan

D. Ciri fisik

25. Pemalu, rajin dan jujur merupakan contoh karakteristik

A. Hobi

B. Kecakapan

C. Sifat

D. ciri fisik