

Lembar Kerja Peserta Didik (LKPD)

Gangguan Pada Sistem Gerak Manusia

Petunjuk

1. Di bawah ini akan ada masalah yang berkaitan dengan gangguan sistem gerak pada manusia,selesaikanlah.
2. Untuk meyakinkan jawaban kamu sudah benar,coba bertanyalah kepada teman yang ada di sebelah kanan dan kirimu apa jawaban merek.Jika jawaban kamu berbeda dengan teman mu,tanyakan pada mereka bagaimana ia mencari jawabannya.
3. Jika sudah yakin jawaban yang kamu peroleh,silahkan lanjutnkan mengerjakan bagian selanjutnya.

Nama	:
No Absen	:
Kelas	:








Pernahkah kamu melihat orang yang memakai kursi roda? Salah satu penyebab orang memakai kursi roda karena orang tersebut mengalami fraktura (patah tulang) pada bagian kakinya sehingga orang tersebut tidak bisa berjalan dengan normal. Fruktura adalah salah satu jenis kelainan yang terjadi pada sistem gerak manusia. Mari kita pelajari beberapa gangguan dan kelainana yang sering terjadi pada sistem gerak berikut ini!

Tujuan Pembelajaran

1. Mendeskripsikan gangguan yang terjadi pada sistem gerak manusia dengan tepat
2. Mendiskripsikan upaya menjaga kesehatan sistem gerak manusia dengan tepat

Alternatif Pemecahan Masalah

Tabel

No	Nama Kelainan	Pengertian	Penyebab	Pencegahan Pengobatan
1	 Lordosis			
2	 Kifosis			
3	 Skoliosis			
4	 Osteoporosis			
5	 Rakitis			