

THỰC HÀNH VÀ TRẢI NGHIỆM

1 **Viết phép nhân** để tính.

a)

2 con kiến có tất cả bao nhiêu cái chân?

--	--	--	--	--



b)

Có tất cả bao nhiêu cái bánh ở hình bên?


--	--	--	--	--




c)

5 con bò có tất cả bao nhiêu cái chân?


--	--	--	--	--



2 **Vẽ hình** thể hiện các phép chia rồi **viết phép chia**.



a) **Xếp đều 12** quả cam vào **3** đĩa.



--	--	--	--	--

b) **Xếp 12** quả cam vào các đĩa, **mỗi đĩa 6** quả.



--	--	--	--	--