


SUMAS ITERADAS

Nombre completo: _____

Fecha: _____

Indicaciones: Responde las sumas iteradas, término imprime la hoja y entrégala a tu profesor.

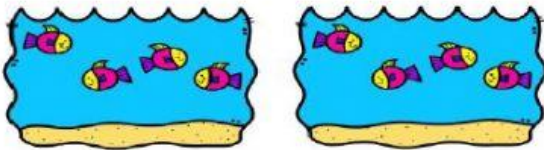


Peceras _____

Peces por pecera _____

$$\underline{\quad} + \underline{\quad} + \underline{\quad} = \underline{\quad}$$

$$3 \text{ veces } 1 = \underline{\quad}$$

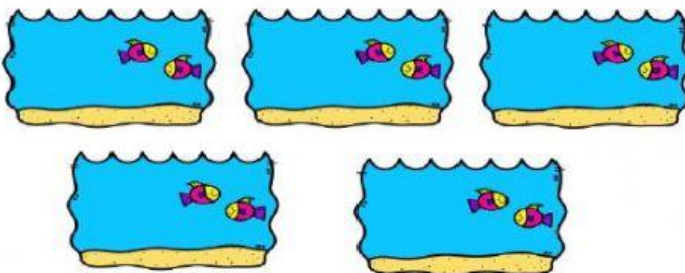


Peceras _____

Peces por pecera _____

$$\underline{\quad} + \underline{\quad} = \underline{\quad}$$

$$2 \text{ veces } 4 = \underline{\quad}$$



Peceras _____

Peces por pecera _____

$$\underline{\quad} + \underline{\quad} + \underline{\quad} + \underline{\quad} + \underline{\quad} = \underline{\quad}$$

$$5 \text{ veces } 2 = \underline{\quad}$$