

## PROBLEMA 1

Para celebrar el cumpleaños, Ana ha inflado 17 globos y su amiga Elena 12. Durante la fiesta se pinchan 22 globos. ¿Cuántos globos quedan inflados?



Datos:

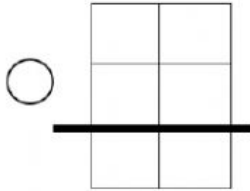
Ana infla  globos.

Elena infla  globos.

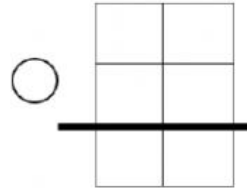
Se pinchan  globos.

Operaciones:

1ª operación:



2ª operación:



Solución: quedan  globos inflados.

## PROBLEMA 2

Carmen tiene una cajonera con 6 cajones y cada cajón tiene 6 camisetas. ¿Cuántas camisetas tiene Carmen en total?



Datos:

cajones.

camisetas en cada cajón.

Operación:

$$\square \circ \square = \square$$

Solución: Carmen tiene  camisetas.

### PROBLEMA 3

Rebeca está leyendo un libro que tiene 232 páginas. Ya ha leído 127 páginas. ¿Cuántas páginas le quedan por leer?

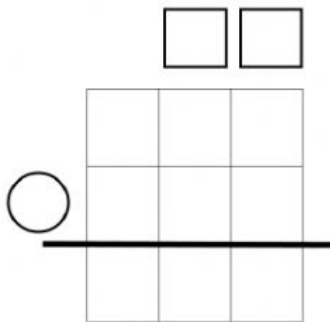


Datos:

Tiene  páginas.

Ha leído  páginas.

Operación:



Solución: le quedan por leer  páginas.