

LICEO INTEGRADO DE ZIPACUARA PENSAMIENTO MATEMATICO



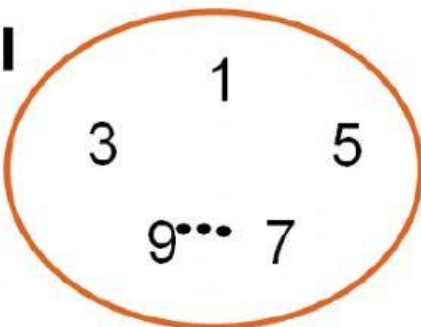
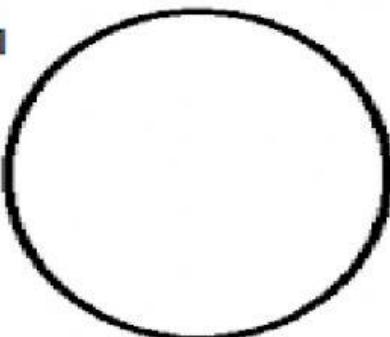
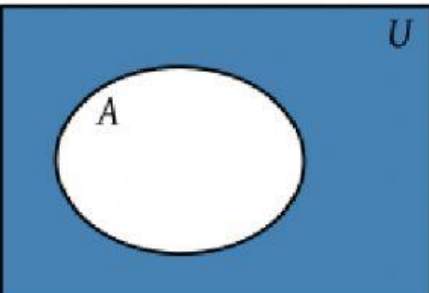
Selecciona el tipo de conjunto que representa cada imagen (recuerda que puedes seleccionar más de una opción)

<p>A</p>	<p>Conjunto de frutas</p> <p>Conjunto unitario</p> <p>Conjunto finito</p> <p>Conjunto vacío</p> <p>Conjunto infinito</p>	<p>Conjunto de colores</p> <p>Conjunto de autos</p> <p>Conjunto universal</p> <p>Conjunto de números impares</p>
<p>B</p>	<p>Conjunto unitario</p> <p>Conjunto finito</p> <p>Conjunto vacío</p> <p>Conjunto infinito</p> <p>Conjunto de flores</p>	<p>Conjunto de autos</p> <p>Conjunto universal</p> <p>Conjunto de números impares</p> <p>Conjunto de animales</p>
<p>C</p>	<p>Conjunto unitario</p> <p>Conjunto finito</p> <p>Conjunto vacío</p> <p>Conjunto infinito</p> <p>Conjunto de animales</p>	<p>Conjunto de medios de transporte</p> <p>Conjunto universal</p> <p>Conjunto de números impares</p> <p>Conjunto de frutas</p>

LICEO INTEGRADO DE ZIPAQUIRÁ

PENSAMIENTO MATEMÁTICO



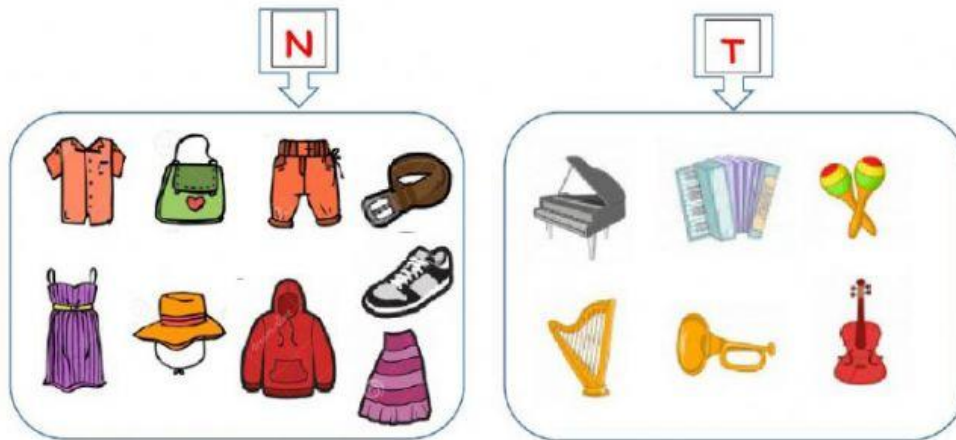
<p>I</p> 	<p>Conjunto unitario</p> <p>Conjunto finito</p> <p>Conjunto vacío</p> <p>Conjunto infinito</p> <p>Conjunto de frutas</p>	<p>Conjunto de flores</p> <p>Conjunto universal</p> <p>Conjunto de números impares</p> <p>Conjunto de animales</p>
<p>M</p> 	<p>Conjunto unitario</p> <p>Conjunto finito</p> <p>Conjunto vacío</p> <p>Conjunto infinito</p> <p>Conjunto de frutas</p>	<p>Conjunto de colores</p> <p>Conjunto universal</p> <p>Conjunto de números impares</p> <p>Conjunto de animales</p>
	<p>Conjunto unitario</p> <p>Conjunto finito</p> <p>Conjunto vacío</p> <p>Conjunto infinito</p> <p>Conjunto de frutas</p>	<p>Conjunto de colores</p> <p>Conjunto universal</p> <p>Conjunto de números impares</p> <p>Conjunto de animales</p>

LICEO INTEGRADO DE ZIAPAQUIRÁ

PENSAMIENTO MATEMÁTICO



Observa la imagen e indica si pertenece € o no pertenece €



_____ Al conjunto T

€

€



_____ Al conjunto T

€

€



_____ Al conjunto N

€

€



_____ Al conjunto T

€

€



_____ Al conjunto N

€

€



_____ Al conjunto T

€

€



_____ Al conjunto N

€

€



_____ Al conjunto N

€

€



_____ Al conjunto T

€

€