

PHÉP CHIA

BÀI TẬP TỰ LUYỆN


1. 21 cái bánh được tách thành bao nhiêu nhóm 7 cái bánh ?



- A. 7 nhóm. B. 3 nhóm. C. 4 nhóm. D. 1 nhóm.

2. Ghép 5 hình tròn thành 1 nhóm.

Có nhóm 5 hình tròn trong hình dưới đây ?

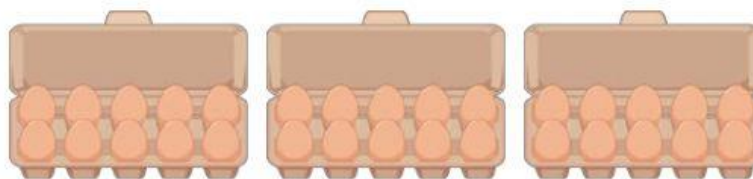


3. Em nhìn thấy 12 cái chân mèo thì nhìn thấy bao nhiêu con mèo ?



Trả lời:

4. Mẹ có 30 quả trứng ở trong khay. Mỗi lần mẹ lấy ra 10 quả trứng. Hỏi mẹ lấy được bao nhiêu lần như vậy ?



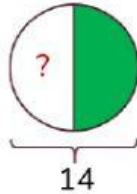
- A. 2 lần. B. 3 lần. C. 10 lần. D. 15 lần.

5. 1 xe hơi được lắp vào 4 bánh xe.

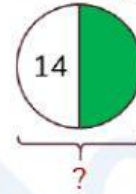
Có 16 bánh xe đủ lắp cho chiếc xe.



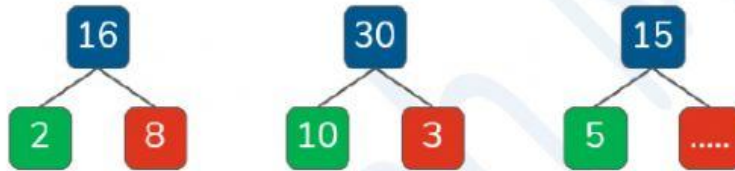
6. Một nửa của 14 là:



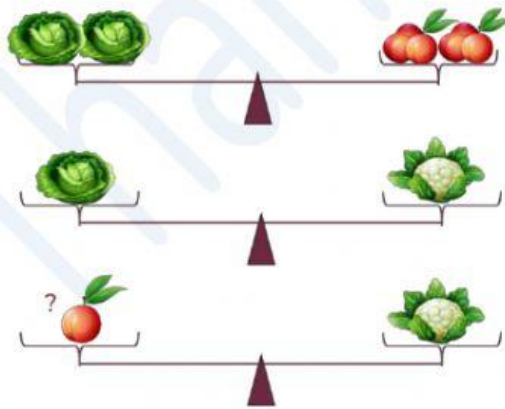
7. Một nửa của bằng 14.



8. Viết số thích hợp điền vào chỗ trống trong hình sau:



9. Chọn số thích hợp điền vào dấu “?”



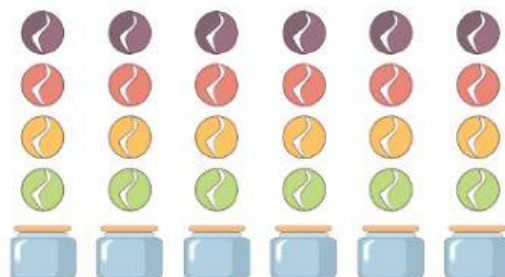
A. 1.

B. 3.

C. 6.

D. 9.

10. 24 viên bi được xếp vào 6 cái hộp. Mỗi hộp có bao nhiêu viên bi ?



A. 6 viên bi.

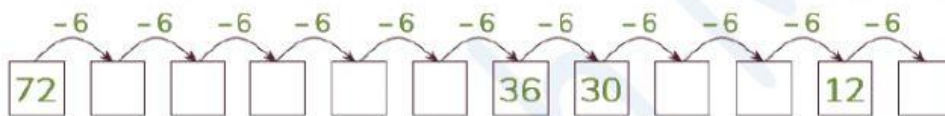
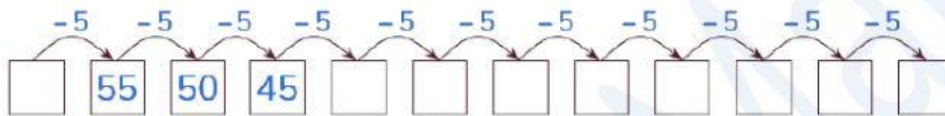
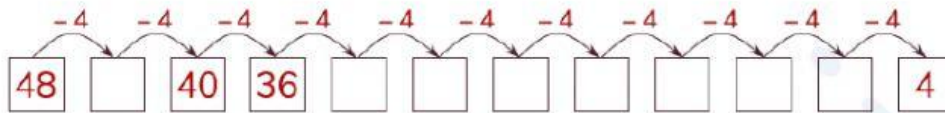
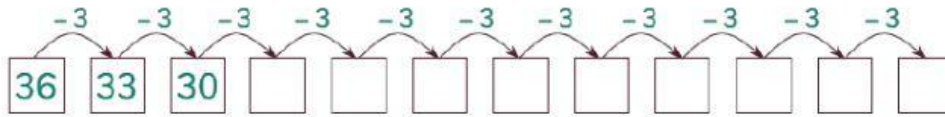
B. 12 viên bi.

C. 8 viên bi.

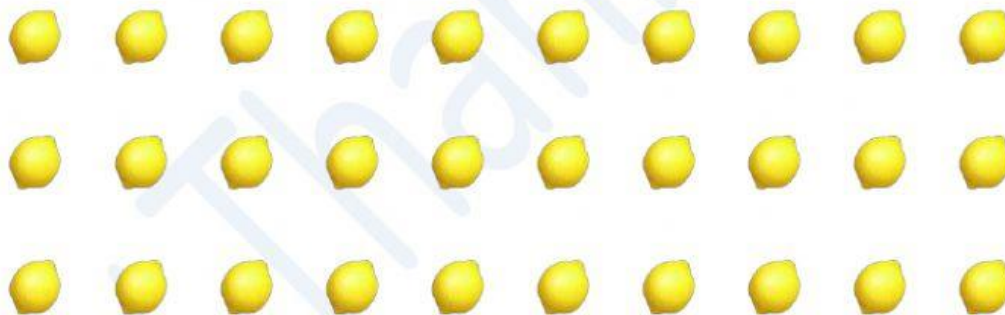
D. 4 viên bi.

Phần tự luận

1. Đếm lùi cách đều đơn vị.



2. Tư duy nhóm.



a) Trong hình có quả chanh.

b) Có bao nhiêu nhóm gồm 10 quả chanh khác nhau ?

.....

c) Có bao nhiêu nhóm gồm 3 quả chanh khác nhau ?

.....

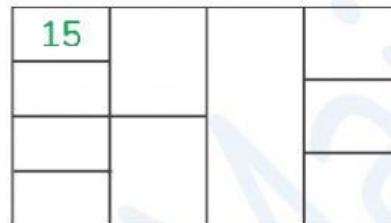
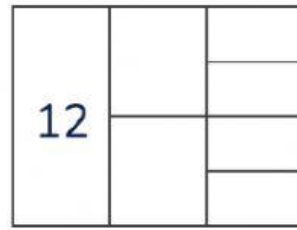
d) Xếp số chanh thành 5 nhóm, mỗi nhóm có bao nhiêu quả chanh ?

.....

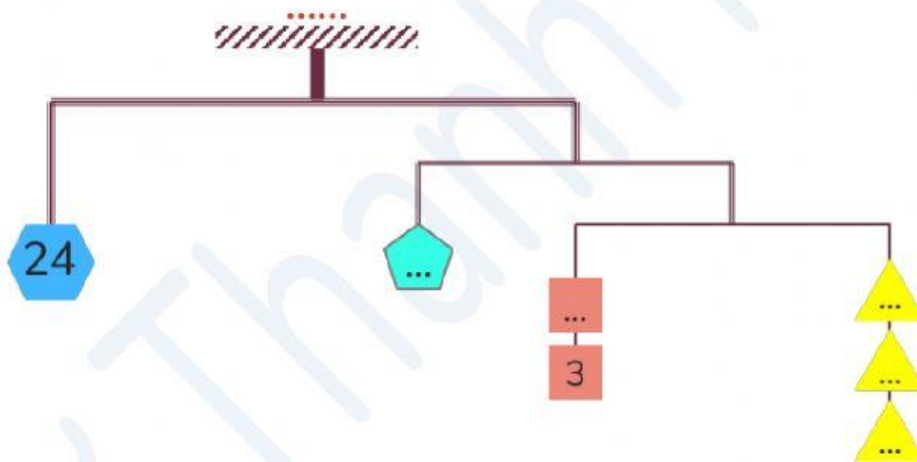
e) Xếp số chanh thành 6 nhóm, mỗi nhóm có bao nhiêu quả chanh ?

.....


3. Điền số thích hợp vào ô trống, biết ô giống nhau thì số giống nhau.



4. Viết số thích hợp vào chỗ trống để cân thăng bằng. Biết ô giống nhau thì số giống nhau.



5. Sóc con có 16 hạt dẻ. Sóc con đem chia đều cho các bạn nhỏ, mỗi bạn được nhận 2 hạt dẻ. Hỏi có bao nhiêu người bạn được nhận hạt dẻ của Sóc con ?



.....

.....

.....