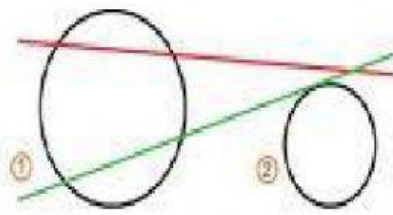


RECTAS Y ÁNGULOS

1 . Observa el dibujo y contesta en tu cuaderno.



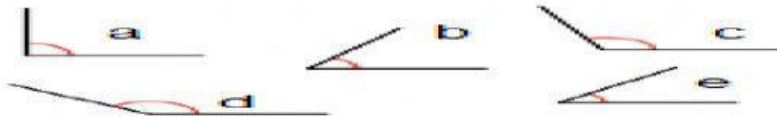
¿Qué posición tiene la recta roja respecto de la circunferencia 1 ?

¿Y de la circunferencia 2?

¿Qué posición tiene la recta verde respecto de la circunferencia 1?


¿Y de la circunferencia 2?

2 . Clasifica estos ángulos donde corresponda.



Ángulo agudo	Ángulo recto	Ángulo obtuso

3 . Observa el mosaico y marca las respuestas correctas.



- ☐ El pato naranja es simétrico al azul respecto de la recta roja
- ☐ El pato verde es simétrico al rosa respecto de la recta azul
- ☐ Puedes llegar al pato azul mediante una traslación del pato verde.
- ☐ Puedes llegar al pato gris mediante una traslación del pato rojo.

4.- En un almacén hay 25 botes de pintura roja de 5 kg cada uno, 32 botes de pintura azul de 10 kg cada uno y 125 botes de pintura blanca de 20 kg cada uno.

- A. ¿Cuántos botes hay de pintura roja más que de blanca?
- B. ¿Cuántos kilos de pintura azul hay en el almacén?
- C. ¿Hay más de 3.000 kg de pintura total en el almacén?
- D. ¿De qué color hay más kilos de pintura?