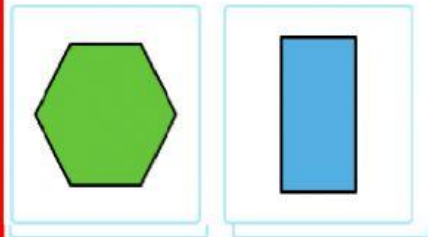


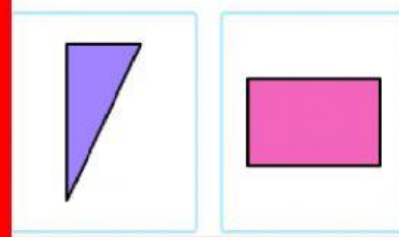
# COMPETENCIA-COMPARAR LADOS Y VÉRTICES

CLICK PARA INSTRUCCIONES

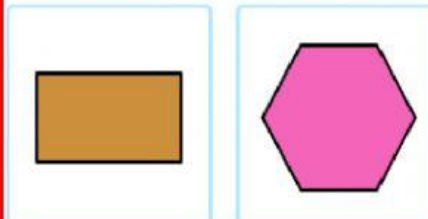
¿Qué forma tiene menos vértices?



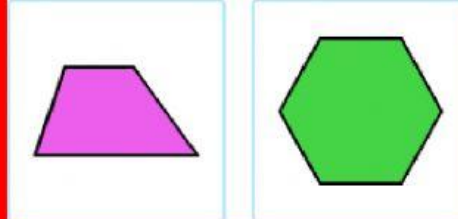
¿Qué forma tiene menos vértices?



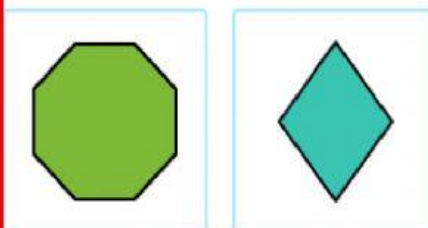
¿Qué forma tiene menos lados?



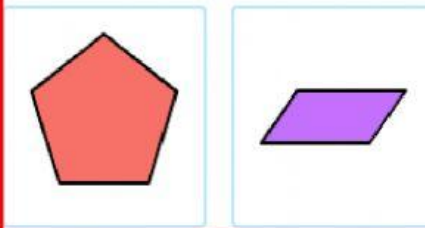
¿Qué forma tiene más lados?




¿Qué forma tiene más vértices?



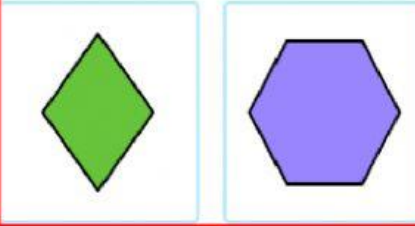
¿Qué forma tiene más vértices?



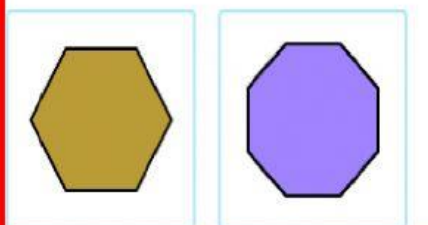
¿Qué forma tiene menos vértices?



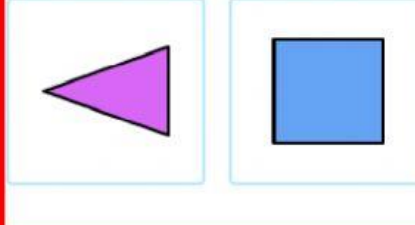
¿Qué forma tiene más vértices?



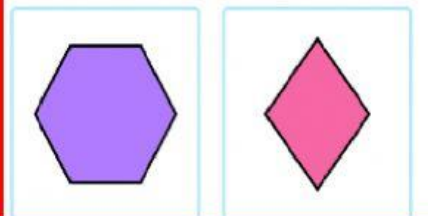
¿Qué forma tiene menos vértices?



¿Qué forma tiene más vértices?



¿Qué forma tiene menos vértices?



¿Qué forma tiene más vértices?

