





Escribe el nombre de las siguientes figuras geométricas



Señala en cada caso la figura que sobra



Lee y escribe.

- Escribe tres cosas que tengan forma redonda

- Escribe tres cosas que tengan forma triangular

- Escribe tres cosas que tengan forma cuadrada