



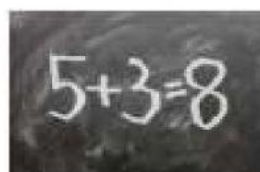

NOMBRE: _____

FECHA: _____

Relaciona con una línea la civilización con el invento que realizó cada una de ellas.



HISTORIA DE LA POLVORA



Grecia

India

Roma

China

Mesopotamia

Egipto

Selecciona la civilización que se estableció en los siguientes ríos.

Río Tigris y Éufrates:

Río Tiber y Mar Mediterráneo:


Mar Mediterráneo:

Río Indo:

Río Amarillo y Yangtsé:

Río Nilo:

Instrucciones: Selecciona el nombre de la civilización con el aspecto del arte que representan, arrastrando la respuesta correcta.



Mesopotamia

Egipto

China

India

Grecia

Roma