

Математика 2

Розв'яжи приклади

$2 \cdot 3$

18

$3 \cdot 4$

10

$3 \cdot 6$

15

$4 \cdot 5$

14

$2 \cdot 4$

6

$2 \cdot 5$

12

$3 \cdot 5$

12

$3 \cdot 7$

24

$2 \cdot 6$

8

$2 \cdot 7$

20

$3 \cdot 8$

27

$4 \cdot 6$

21

$3 \cdot 9$

8

$2 \cdot 8$

32


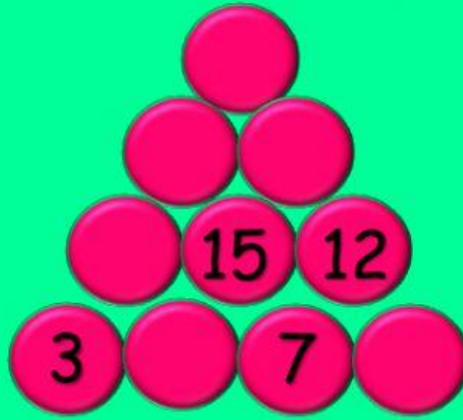
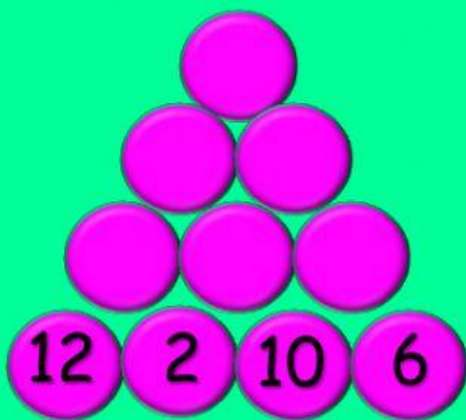
$4 \cdot 2$

24

$4 \cdot 8$

16

Заповни піраміди



Натисни та пограй

