


COMPETENCIA-MOSTRAR FRACCIONES: MODELOS

CLICK PARA INSTRUCCIONES


CON ÁREAS




🔊 Cuando 1 parte del rectángulo está sombreada, ¿qué fracción está sombreada?



🔊 Cuando 1 parte del rectángulo está sombreada, ¿qué fracción está sombreada?



🔊 Cuando 1 parte del rectángulo está sombreada, ¿qué fracción está sombreada?



🔊 Cuando 1 parte del rectángulo está sombreada, ¿qué fracción está sombreada?
