

Tên con là.....

TOÁN










ÔN TẬP TOÁN TUẦN 23

TRỒNG CÂY HÁI QUẢ

GIEO HẠT

Nào! Các con hãy cùng bạn Dora xới đất và gieo hạt bằng cách thực hiện các phép tính bên dưới.

 $40 = \dots - 50$  $40 + 9 = \dots$  $6 + 30 = \dots$ 

 $30 + 20 = \dots$  $55 - 5 = \dots$  $10 = 80 - \dots$

CHĂM SÓC

Hạt đã bắt đầu nảy mầm, các con cùng Dora chăm sóc cây bằng cách chọn đáp án đúng hoặc điền số vào chỗ chấm cho thật đúng nhé!

70 gồm ... chục và 0 đơn vị?



Chọn số thích hợp:

$$24 - 4 = 10 + \dots$$



Số nào là số tròn chục?



Tìm hai số cho hai chiếc lá còn lại:



THU HOẠCH

Thật tuyệt vời! Vườn cây của bạn Dora đã sai trĩu quả! Chúng mình cùng giúp bạn ấy thu hoạch nhé!

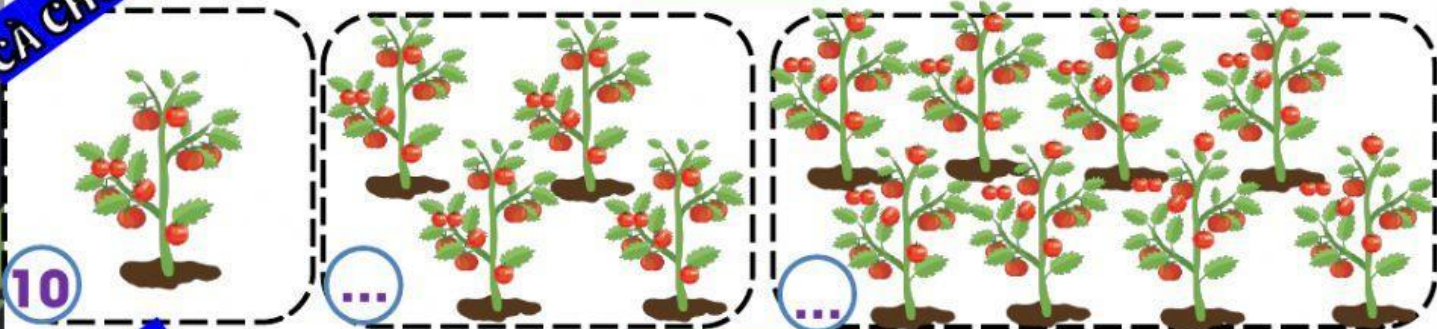
THANH LONG

Số?



CÀ CHUA

Số?



CAM SÁNH


Nối?



THƯỜNG THỨC

Một mùa màng thật bội thu! Con hãy cùng Dora mang những trái cây thơm ngon về nhà thưởng thức!

Viết phép tính thích hợp theo tranh



$$\square \square \square = \square$$



Trải nghiệm trồng cây của các con như thế nào?

