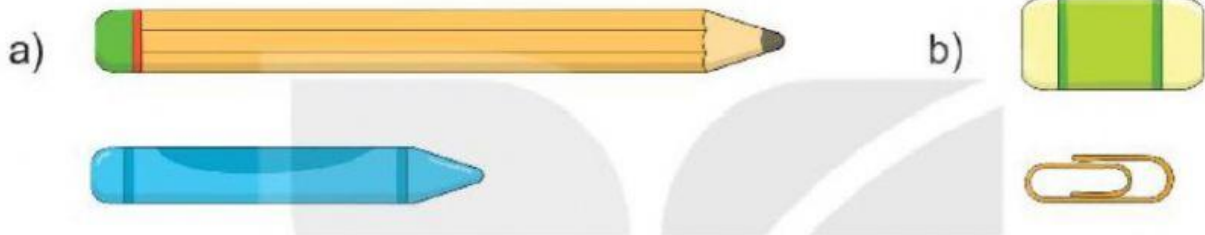


# VUI HỌC TOÁN

1 Đồ vật nào dài hơn?



2 a. Bạn nào cao nhất?




b. Bạn nào thấp nhất?




3

a) Ngựa hay hươu  
cao cổ cao hơn?



b) Thước hay bút chì  
dài hơn?



4 Con hãy nối đồ vật cho được vào hộp bút.

