

Lembar Kerja
Peserta Didik

Pengukuran Panjang Satuan Tidak Baku



Nama : _____

Nomor Presensi : _____

Pilihlah satu jawaban yang benar!

1. Kita dapat mengukur panjang meja menggunakan ...
 - a. Hasta
 - b. Jengkal
 - c. Langkah kaki
2. Lapangan basket di sekolah dapat diukur menggunakan ...
 - a. Langkah kaki
 - b. Jengkal
 - c. Depa
3. Gambar berikut ini untuk mengukur panjang yang disebut ...
 - a. Jengkal
 - b. Hasta
 - c. Depa



4. Gambar berikut ini yang dinamakan depa adalah ...


a.



b.



c.




5. Panjang papan tulis ini adalah

a. 3 jengkal

b. 3 depa

c. 3 hasta




6. Jarak pohon A ke pohon B pada gambar adalah

a. 7 langkah

b. 6 langkah

c. 5 langkah

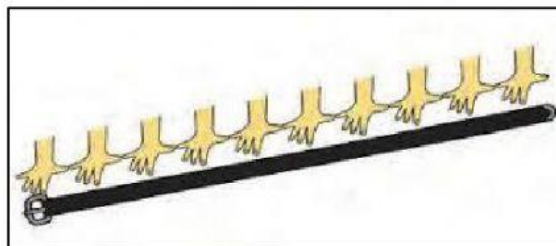


7. Panjang sabuk pada gambar di bawah ini adalah

a. 10 hasta

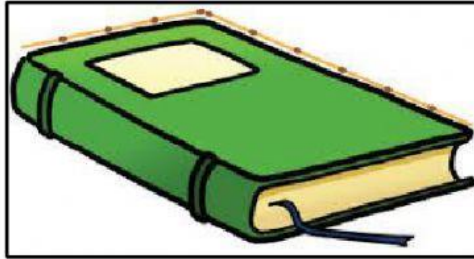
b. 10 depa

c. 10 jengkal




8. Panjang buku pada gambar di bawah ini adalah

- a. 4 korek api
- b. 5 Korek api
- c. 6 korek api



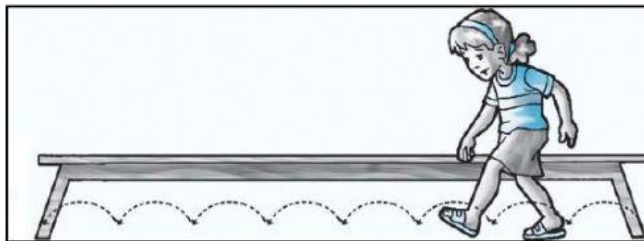
9. Panjang pensil di bawah ini adalah

- a. 3 korek api
- b. 4 korek api
- c. 5 korek api



10. Panjang kursi kayu pada gambar adalah

- a. 6 langkah kaki
- b. 7 langkah kaki
- c. 8 langkah kaki



Alhamdulillah...

Aku bisa!