

Nama: _____

Kelas : _____

Penguatan Matematika Kelas 2

Pasangkanlah gambar berikut dengan pecahan yang sesuai dengan cara menarik garis!

Banyaknya siswa laki-laki pada kumpulan siswa berikut sesuai dengan nilai pecahan ...



$\frac{1}{2}$





$\frac{1}{3}$





$\frac{1}{4}$


Banyaknya siswa perempuan pada kumpulan siswa berikut sesuai dengan nilai pecahan ...




 $\frac{1}{2}$



 $\frac{1}{3}$




 $\frac{1}{4}$



Pasangkan pecahan dan gambar yang sesuai!
Nyatakan pecahan yang menyatakan banyaknya burung kuning dari kawanan burung berikut ini!

$$\frac{1}{2}$$



$$\frac{1}{3}$$



$$\frac{1}{4}$$



Ayo, perhatikan beberapa tumpukan buku berikut!



Buku yang berdiri dapat dinyatakan dengan pecahan ...



Buku warna merah dari tumpukan buku di samping dapat dinyatakan dengan pecahan ...



Buku yang memiliki pita dari kumpulan buku di samping dapat dinyatakan dengan pecahan ...



Buku yang memiliki pita dari kumpulan buku di samping dapat dinyatakan dengan pecahan ...



Siti mengambil salah satu buku dari kumpulan buku di samping. Buku yang diambil Siti dari kumpulan di samping dapat dinyatakan dengan pecahan ...

