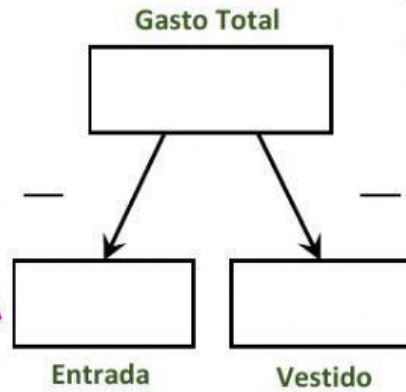


El circo del Sol montó una carpa en Meloneras, en el sur de Gran Canaria. Carolina fue a ver el espectáculo con su madre y sus primas.



Carolina gastó 51 € en la entrada y otros 34 € en un vestido largo de tirantes muy colorido.

¿Qué fracción del gasto destinó Carolina al vestido?

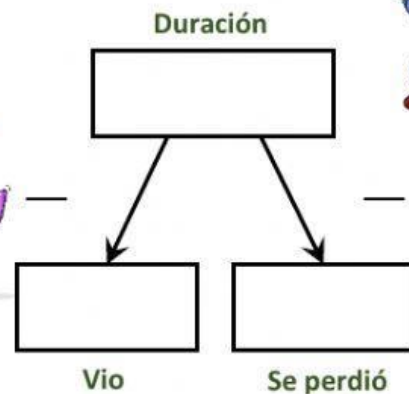


RESPONDE



La función duró 140 minutos, pero Sandra se fue antes de terminar y se perdió tres décimos del espectáculo.

¿Cuántos minutos del espectáculo disfrutó Sandra?

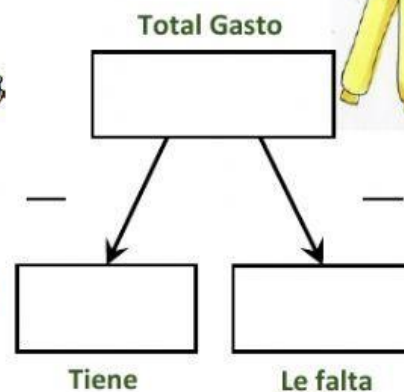


RESPONDE



Al salir Inés se fijó en una sudadera que cuesta 45 € pero solo tiene dos tercios del dinero, el resto tiene que pedirlo prestado.

¿Qué fracción del precio de la sudadera le tienen que prestar?



RESPONDE