


LAS RUTINAS DE MI PROFE

¿Te gustaría saber a qué hora se levanta tu profe? ¿A qué hora come? ¿Cuánto rato duerme la siesta? Esta es tu oportunidad. Lo que tienes que hacer son dos cosas:

- Leer la hora de los relojes para poder rellenar los huecos (lectura de relojes).
- Calcular horas para completar el texto (paso del tiempo).

CUIDADO PORQUE HAY HUECOS CON NÚMERO Y OTROS SIN NÚMERO.

En los **huecos con número** deberás **escribir la hora** (todo con letras) **que marca el reloj correspondiente a ese número**. En los **relojes sin número** deberás **calcular tú la hora**.


Por las mañanas el despertador suena a las ocho y cinco . Pero siempre remolonea en la cama diez minutos, por lo tanto se levanta a las ocho y diez. ➡ ahora debes calcular que hora es diez minutos después



cular que hora es diez minutos después
de las ocho y cinco


Después de desayunar y afeitarse a las _____ se pone a trabajar.




Sobre las _____  hace un pequeño descanso para almorzar.
Tarda quince minutos, así que a las _____ vuelve a trabajar.



Deja de trabajar a las _____ y come.



A las _____ ya ha comido y ha recogido la cocina. Seguidamente se echa una siesta de 30 minutos, por lo que se despierta a las _____ y ve un rato la televisión.



6



Cada tarde hace dos llamadas. Una a las _____ y otra a las _____.

7



Sobre las _____ ha terminado las llamadas.

8

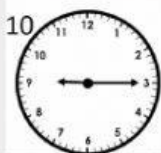


9



A las _____ sale a aplaudir al balcón y está unos veinte minutos hablando con los vecinos, así que a las _____ entra a casa, se ducha y prepara la cena.

10



11



Sobre las _____ cena y a las _____ se va a la cama.

AQUÍ ESTÁN LOS RELOJES UN POCO MÁS GRANDES POR SI LOS QUERÉIS CONSULTAR

1



2



3



4



5



6



7




8



9



10



11

