




**Jawablah pertanyaan berikut ini dengan memilih pernyataan benar atau salah!**

No	Pernyataan	Benar/Salah
1	Setiap warga negara memiliki hak yang sama untuk hidup di lingkungan yang bersih dan sehat.	
2	Melaksanakan kewajiban dalam menjaga kelestarian lingkungan artinya kita telah memberi kesempatan kepada generasi mendatang untuk ikut menikmati lingkungan seperti yang kita nikmati sekarang ini	
3	Melakukan reboisasi dan penghijauan serta mengurangi penggunaan plastik merupakan upaya mencegah kerusakan lingkungan	
4	Setiap anggota kelompok memiliki kewajiban menghargai pendapat anggota kelompok yang lain, serta menghormati hasil keputusan dari musyawarah atau diskusi kelompok.	
5	Peta pikiran merupakan suatu konsep yang menyajikan isi dari informasi pada teks dengan bentuk yang menarik	
6	Salah satu cara untuk menemukan informasi penting dalam teks adalah dengan membaca teks dari awal hingga akhir secara intensif	
7	Informasi dapat disajikan dalam bentuk visual/gambar seperti grafik, diagram, dan tabel	
8	Gerhana matahari merupakan peristiwa saat matahari tidak tampak utuh bulat atau bahkan tidak tampak sama sekali	
9	Gambar berikut adalah gambar skema gerhana matahari 	

10	Gerhana Matahari total terjadi pada daerah umbra	
11	Gerhana Matahari cincin terjadi pada daerah penumbra	
12	Gerhana Bulan terjadi pada malam hari sedangkan gerhana matahari terjadi pada siang atau sore hari	
13	Penanggalan Masehi menggunakan dasar revolusi Bumi	
14	Penanggalan Hijriah menggunakan dasar peredaran Bulan	
15	Dalam satu tahun terdiri atas 366 hari disebut tahun kabisat	
16	Berikut adalah gambar gerhana Bulan 	
17	Volume sebuah limas adalah $520 \text{ cm}^3$ dengan alas berbentuk jajargenjang yang mempunyai panjang alas 12 cm dan tinggi alas 10 cm, maka tinggi limas tersebut adalah 15 cm	
18	Perhatikan gambar berikut ini!  Volume bangun ruang setengah bola di atas adalah $26,52 \text{ dm}^3$	
19	Kondisi geografis suatu negara mempengaruhi kehidupan ekonomi masyarakat sekitarnya	
20	Masyarakat yang berada di sekitar pantai sumber mata pencahariannya adalah sebagai Nelayan, pemandu wisata, penjaga pantai dan pedagang makanan	
21	Pengaruh kegiatan pariwisata terhadap ekonomi masyarakat adalah meningkatnya pendapatan dari usaha pariwisata dan meningkatnya investasi yang masuk ke sektor pariwisata	



22	Indonesia memiliki produk pertanian dan perkebunan seperti kopi, the, tebu dan sawit	
23	Pertambangan di negara Laos berupa Timah	
24	Pertambangan di negara Filipina berupa Mangan dan Nikel	
25	Reklame adalah cara untuk menyampaikan informasi dalam bentuk media cetak dan elektronik	
26	Poster adalah reklame berupa selembur kertas berukuran besar yang berisi informasi disertai gambar yang menarik	
27	Brosur adalah reklame berupa lembar kertas yang biasa dibagikan kepada masyarakat umum	
28	Media visual adalah media yang biasa digunakan untuk menyampaikan informasi dalam tampilan visual	
29	Infografis adalah bentuk penyajian informasi yang sederhana agar mudah dipahami dengan cepat oleh pembaca	
30	Berikut adalah contoh infografis	

