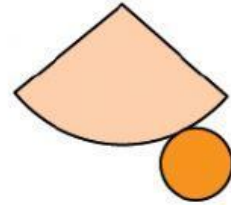
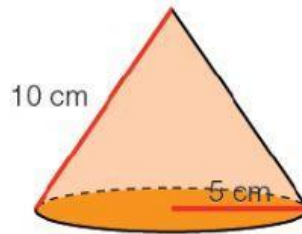
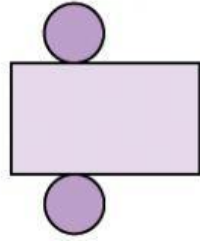
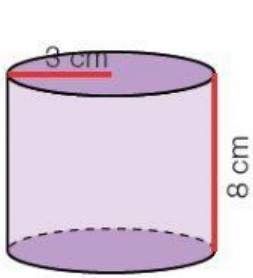


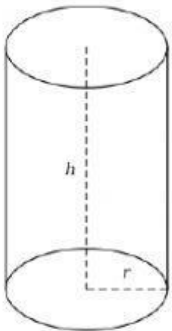
## ÁREAS DE CILINDRO, CONO Y ESFERA

1. Calcula el área de cada cuerpo. Fíjate en su desarrollo.

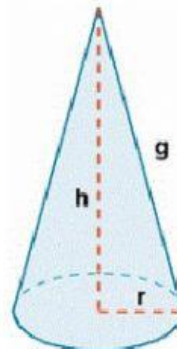


2. Piensa y calcula el área.

- De un cilindro de radio 9 cm y altura 15 cm.



- De un cono de radio 8 cm y generatriz 15 cm



- De una esfera de radio 12 cm.

