

# COMPETENCIA-FRACCIONES SIMPLES: PARTES DE UN

CLICK PARA INSTRUCCIONES

## TODO

¿Qué fracción de la forma es de color púrpura?




$\frac{1}{4}$

$\frac{1}{2}$

$\frac{1}{3}$

$\frac{1}{5}$

¿Qué fracción de la forma es de color púrpura?




$\frac{1}{5}$

$\frac{1}{4}$

$\frac{1}{3}$

$\frac{1}{2}$

¿Qué fracción de la forma es de color verde?



$\frac{1}{2}$

$\frac{1}{4}$

$\frac{1}{5}$

$\frac{1}{3}$

¿Qué fracción de la forma es de color naranja?



$\frac{1}{2}$

$\frac{1}{3}$

$\frac{1}{4}$

$\frac{1}{5}$

¿Qué fracción de la forma es de color naranja?




$\frac{1}{3}$

$\frac{1}{5}$

$\frac{1}{4}$

$\frac{1}{2}$

¿Qué fracción de la forma es de color rosa?



$\frac{1}{4}$

$\frac{1}{5}$

$\frac{1}{2}$

$\frac{1}{3}$

¿Qué fracción de la forma es de color azul?



$\frac{1}{2}$

$\frac{1}{4}$

$\frac{1}{5}$

$\frac{1}{3}$

¿Qué fracción de la forma es de color rosa?



$\frac{1}{5}$

$\frac{1}{3}$

$\frac{1}{4}$

$\frac{1}{2}$

¿Qué fracción de la forma es de color rosa?



$\frac{1}{2}$

$\frac{1}{3}$

$\frac{1}{5}$

$\frac{1}{4}$

¿Qué fracción de la forma es de color verde?



$\frac{1}{5}$

$\frac{1}{3}$

$\frac{1}{2}$

$\frac{1}{4}$