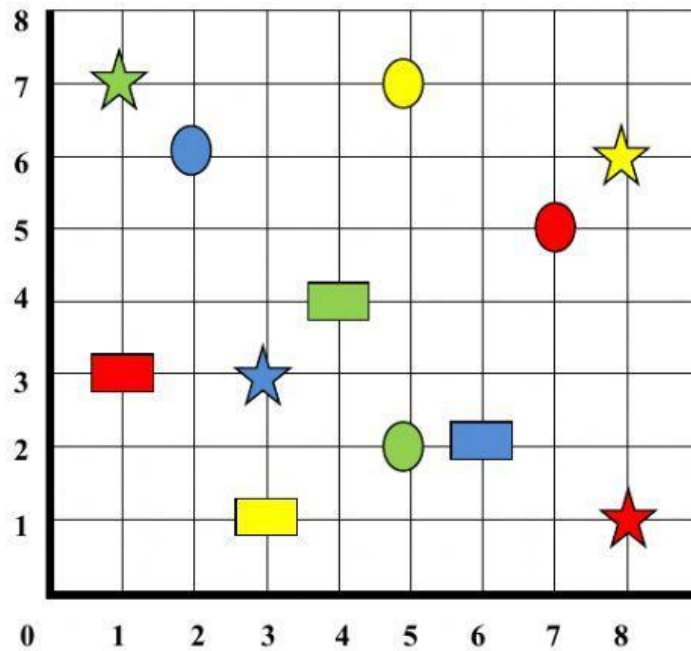



## TEMA 12 “EL PLANO Y EL ESPACIO”

Pincha la respuesta correcta.

1.- Fíjate en el plano y une cada figura con sus coordenadas.



(6,2)                      (1,7)                      (3,1)                      (7,5)                      (8,6)                      (5,2)



(1,3)                      (2,6)                      (4,4)                      (5,7)                      (3,3)                      (8,1)

2.- Imagina que tienes que medir una sala rectangular. La escala que te dan es de 1:200. Si el largo de la sala en el mapa son 7 cm y el ancho son 4 cm. ¿Cuánto **metros** medirá la sala?

10 x 6

1400 x 800

14 x 8

7 x 4

3.- Señala las escalas que coinciden con la siguiente: **1:1000000**

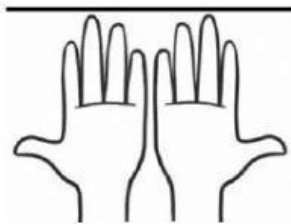
1:10 km

1:10000 m

1:100 km

1:100000 dm


4.-Señala si se trata de una simetría, de una traslación o de una rotación.



**Simetría**

**Traslación**

**Rotación**



**Simetría**

**Traslación**

**Rotación**



**Simetría**

**Traslación**

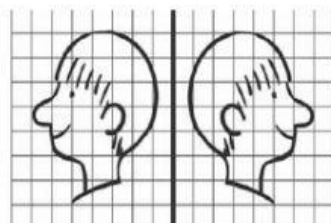
**Rotación**



**Simetría**

**Traslación**

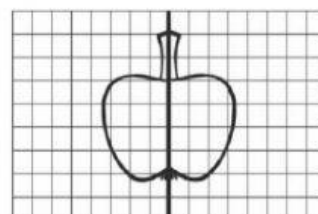
**Rotación**



**Simetría**

**Traslación**


**Rotación**



**Simetría**

**Traslación**


**Rotación**



**Simetría**

**Traslación**

**Rotación**



**Simetría**

**Traslación**

**Rotación**



**Simetría**

**Traslación**

**Rotación**