







Bài 1 Viết các tổng dưới đây dưới dạng các tích.

$4 + 4 + 4 + 4 =$  \times 



$6 + 6 + 6 + 6 + 6 + 6 =$  \times 

$9 + 9 + 9 =$  \times 

$8 + 8 + 8 + 8 + 8 + 8 =$  \times 

Bài 2 Viết các tích sau dưới dạng tổng các số hạng bằng nhau rồi tính (theo mẫu).




$5 \times 3 = 5 + 5 + 5 = 15. \text{ Vậy: } 5 \times 3 = 15$

$3 \times 7 =$  $\text{ Vậy: } 3 \times 7 =$ 

$9 \times 5 =$  $\text{ Vậy: } 9 \times 5 =$ 

$4 \times 5 =$  $\text{ Vậy: } 4 \times 5 =$ 

Bài 3 Viết phép nhân thích hợp với những bức tranh đã cho.



Bài 4 Số?

Thừa số	2	2	2	2	2	2	2	2	2
Thừa số	5	6	3	8	9	4	1	2	7
Tích									

Bài 5 Số?

$2 \times 9 \rightarrow$ $+ 23 \rightarrow$ $- 39 \rightarrow$ $\times 6 \rightarrow$

$2 \times 7 \rightarrow$ $- 12 \rightarrow$ $\times 6 \rightarrow$ $- 8 \rightarrow$

Bài 6 $>$; $<$; $=$?

$6 + 6 + 6$ 6×2 $9 + 9$ 2×9 3×4 2×6

5×2 2×5 7×2 4×4 8×2 6×4

Bài 7 Gia đình Mai có 6 người. Hàng ngày, trước mỗi bữa ăn, Mai đều giúp mẹ sắp bát đĩa ra bàn ăn.

a. Hỏi hàng ngày, Mai cần sắp bao nhiêu chiếc đĩa ra bàn ăn?

Bài giải

b. Hôm nay, Mai mời An và Minh đến nhà ăn cơm cùng gia đình mình. Hỏi Mai cần sắp tất cả bao nhiêu chiếc đĩa ra bàn ăn?

Trả lời: Mai cần sắp tất cả chiếc đĩa ra bàn ăn.





I. Phần trắc nghiệm.

Khoanh tròn vào chữ cái đặt trước câu trả lời đúng:

Câu 1 Thừa số thứ nhất là 2, thừa số thứ hai là 8. Vậy tích bằng:

- A. 10 B. 6 C. 16 D. 14

Câu 2 Số?

- A. 26 B. 30
C. 25 D. 28



Câu 3 Số?

- A. 9 B. 6
C. 7 D. 8

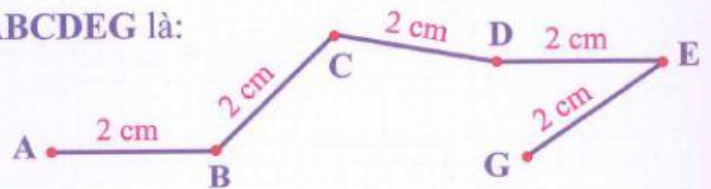
$$5 \times ? = 45$$

Câu 4 Trong các phép nhân dưới đây, phép nhân có kết quả lớn nhất là:

- A. 2×7 B. 5×4 C. 2×9 D. 5×6

Câu 5 Độ dài của đường gấp khúc ABCDEG là:

- A. 12 cm B. 8 cm
C. 10 cm D. 14 cm



Câu 6 Có 12 quả táo, chia đều cho 6 bạn. Số quả táo mỗi bạn nhận được là:

- A. 6 quả B. 4 quả C. 2 quả D. 3 quả

Câu 7 Phong dùng một chiếc xô có dung tích là 5 l để xách nước. Phong xách được 6 xô đổ vào chậu thì chậu đầy nước. Số lít nước chậu đựng được là:

- A. 30 l nước B. 20 l nước
C. 11 l nước D. 25 l nước

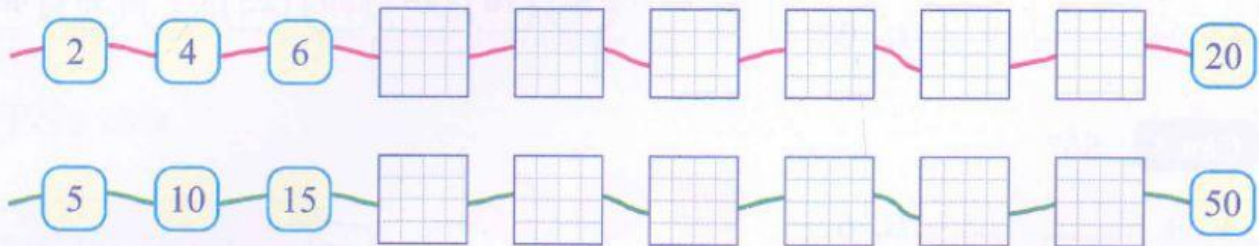


II. Phân tự luận.

Bài 1 Số?

Thừa số	5	5	5	5	5	5	5	5	5	5
Thừa số	1	2	3	4	5	6	7	8	9	10
Tích										

Bài 2 Số?



Bài 3 Từ phép nhân đã cho, viết hai phép chia thích hợp.

$5 \times 4 = 20$: =	$5 \times 8 = 40$: =
	: =		: =
$2 \times 7 = 14$: =	$2 \times 9 = 18$: =
	: =		: =

Bài 4 Số?

$2 \times \begin{matrix} \square \\ \square \\ \square \\ \square \\ \square \end{matrix} = 12$	$2 \times \begin{matrix} \square \\ \square \\ \square \\ \square \\ \square \end{matrix} = 16$	$2 \times \begin{matrix} \square \\ \square \\ \square \\ \square \\ \square \end{matrix} = 10$	$2 \times \begin{matrix} \square \\ \square \\ \square \\ \square \\ \square \end{matrix} = 8$
$5 \times \begin{matrix} \square \\ \square \\ \square \\ \square \\ \square \end{matrix} = 15$	$5 \times \begin{matrix} \square \\ \square \\ \square \\ \square \\ \square \end{matrix} = 45$	$5 \times \begin{matrix} \square \\ \square \\ \square \\ \square \\ \square \end{matrix} = 35$	$5 \times \begin{matrix} \square \\ \square \\ \square \\ \square \\ \square \end{matrix} = 50$