


COMPETENCIA-MITADES, TERCIOS, CUARTOS

CLICK PARA INSTRUCCIONES


¿Qué figura muestra cuartos?



¿Qué figura muestra tercios?



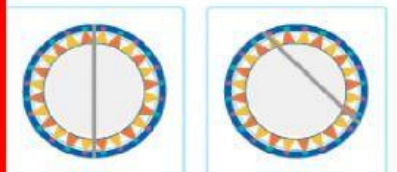
¿Qué figura muestra cuartos?



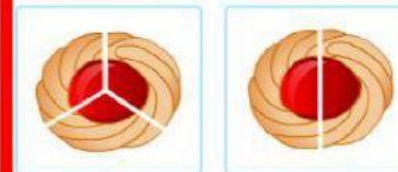
¿Qué figura muestra mitades?



¿Qué figura muestra mitades?



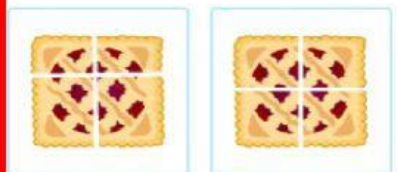
¿Qué figura muestra tercios?



¿Qué figura muestra tercios?




¿Qué figura muestra cuartos?



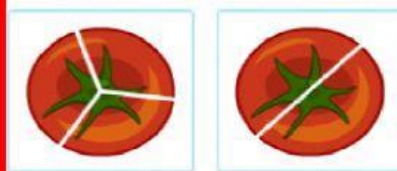
¿Qué figura muestra cuartos?



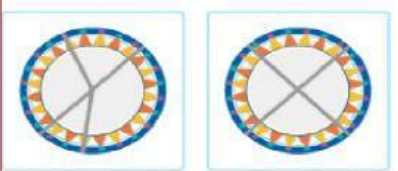
¿Qué figura muestra mitades?




¿Qué figura muestra tercios?




¿Qué figura muestra cuartos?



¿Qué figura muestra cuartos?



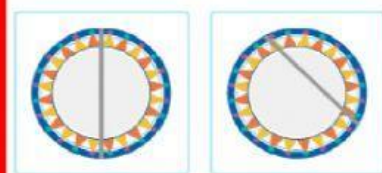
¿Qué figura muestra mitades?




¿Qué figura muestra tercios?



¿Qué figura muestra mitades?



¿Qué figura muestra mitades?



¿Qué figura muestra tercios?

