

# TOÁN NÂNG CAO TUẦN 26

## Bài 1: Số?


$$42 + 3 = \dots$$

$$4 + 20 + 11 = \dots$$

$$35 + 24 = \dots$$

$$42 + \dots = 47$$

**Bài 2:** Chọn những chú cá chứa phép tính có kết quả lớn hơn 56 và bé hơn 60.



**Bài 3:** Đàn gà có 12 con gà con, 1 con gà trống và 4 con gà mái. Hỏi đàn gà có tất cả bao nhiêu con?  
Phép tính đúng là:

a.  $12 + 1 = 13$

b.  $12 + 1 + 4 = 16$

c.  $12 + 1 + 4 = 17$



**Bài 4:** Điền số vào chỗ trống sao cho 3 ô liền nhau cộng lại có kết quả bằng 18.

11		2						
----	--	---	--	--	--	--	--	--

**Bài 5: Số?**

 +  = 20

 +  = 30

 +  = 50

 +  =