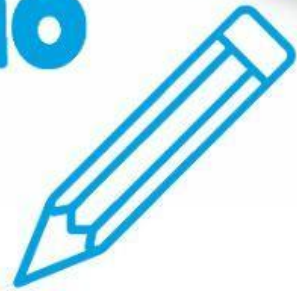


Emilio D'Agostino

# PROVO ANCH'IO

su modello  
invalsi



# 1

## MATEMATICA

**Verificare** le competenze



il capitollo

A1. QUALE SEGNO METTERESTI TRA I DUE NUMERI?



8

?



6

- ☐ A.  $>$
- ☐ B.  $=$
- ☐ C.  $<$

A2. QUALE NUMERO MANCA NELLA SEGUENTE SUCCESSIONE DI NUMERI?

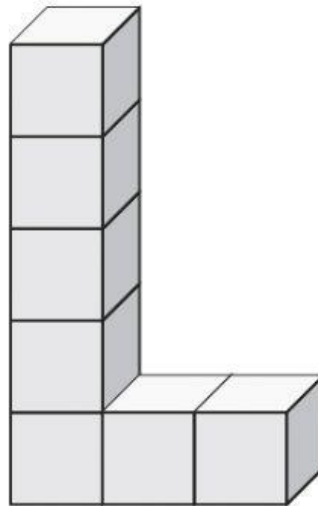
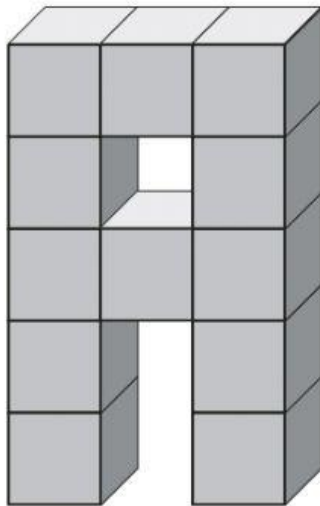


- ☐ A. 3
- ☐ B. 6
- ☐ C. 7

A3. QUALE NUMERO CORRISPONDE A 1 DECINA E 2 UNITÀ?


- ☐ A. 21
- ☐ B. 12
- ☐ C. 20

A4. CON QUALE OPERAZIONE CALCOLI IL NUMERO DI CUBETTI DELLE DUE LETTERE?




- ☐ A.  $12 + 7$
- ☐ B.  $12 - 7$
- ☐ C.  $10 + 6$

**A5. QUALE TRA LE SEGUENTI FIGURE È UN QUADRATO?**



**FIGURA A**



**FIGURA B**



**FIGURA C**

- ☐ A. **FIGURA A**
- ☐ B. **FIGURA D**
- ☐ C. **FIGURA B**

**A6. QUAL È IL RISULTATO DELLA SEGUENTE OPERAZIONE?**

$$9 - 3 = \dots\dots\dots$$

- ☐ A. 7
- ☐ B. 6
- ☐ C. 5

A7. CON QUALE OPERAZIONE CALCOLI QUANTI FIORI  
CI SONO NEI DUE MAZZI?



- ☐ A.  $5 + 5$   
☐ B.  $7 - 5$   
☐ C.  $7 + 5$

A8. QUALE NUMERO MANCA NELLA SEGUENTE SUCCESSIONE  
DI NUMERI?



- ☐ A. 13  
☐ B. 16  
☐ C. 17




**A9. QUAL È IL RISULTATO DELLA SEGUENTE OPERAZIONE?**

$$9 + 6 = \dots\dots\dots$$

- ☐ A. 13
- ☐ B. 14
- ☐ C. 15

**A10. QUESTO È UN INSIEME DI ANIMALI CON LE ALI. C'È UN INTRUSO. QUAL È?**



- ☐ A. LA FARFALLA
- ☐ B. L'APE
- ☐ C. LA TARTARUGA

A11. QUALE FIGURA RAPPRESENTA UNA LA LINEA APERTA?




FIGURA **A**




FIGURA **B**



FIGURA **C**

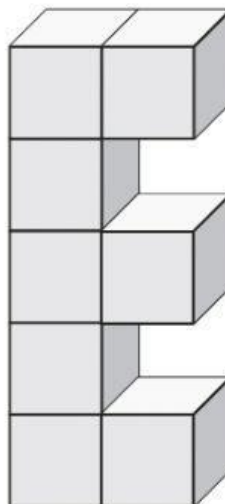
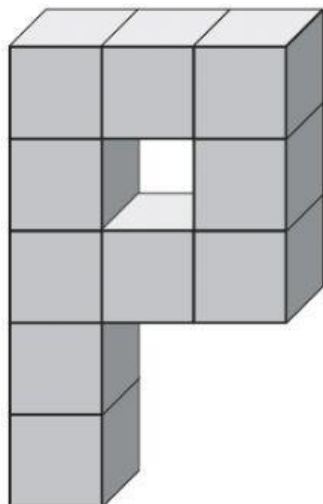
- ☐ A. FIGURA **A**  
☐ B. FIGURA **B**  
☐ C. FIGURA **C**

A12. QUALE NUMERO MANCA PER COMPLETARE L'OPERAZIONE?

$$10 - \dots\dots\dots = 6$$

- ☐ A. 3  
☐ B. 4  
☐ C. 5

B1. CON QUALE OPERAZIONE CALCOLI IL NUMERO DI CUBETTI DELLE DUE LETTERE?



- ☐ A.  $11 + 8$   
☐ B.  $10 - 8$   
☐ C.  $10 + 8$

B2. QUALE NUMERO MANCA PER COMPLETARE L'OPERAZIONE?

$$\dots\dots\dots + 3 = 10$$

- ☐ A. 6  
☐ B. 7  
☐ C. 8






**B3. QUALE NUMERO MANCA PER COMPLETARE L'OPERAZIONE?**

$$\dots\dots\dots - 2 = 10$$

- ☐ A. 14  
☐ B. 13  
☐ C. 12

**B4. QUALE VEICOLO SI TROVA NELLA CASELLA B, 2 ?**

4				
3				
2				
1				
	A	B	C	D

- ☐ A. LA MOTO  
☐ B. L'AUTO  
☐ C. IL TRATTORE