




I.- Cuenta los objetos y escribe el número.



II.- Relaciona el número con la escritura

6

uno



seis






tres

## Evaluación 2° Trimestre

### Matemáticas 1° Grado

III.- Selecciona el círculo, cuadrado y triángulo.



IV.- Resuelve las siguientes sumas y restas.



  
**1**

+

  
**4**

=




  
**4**

+

  
**3**

=



  
**1**

+

  
**5**

=



  
**4**













+

  
**4**

=

## Evaluación 2° Trimestre

### Matemáticas 1° Grado

V.- SELECCIONA EL MES SEGÚN LA FECHA.

1.- DIA DEL AMOR Y LA AMISTAD.



ENERO

FEBRERO

DICIEMBRE

2.- DIA DE LA BANDERA.



ENERO

FEBRERO

JUNIO

## Evaluación 2° Trimestre

### Matemáticas 1° Grado

3.- DIA DE LOS REYES MAGOS



ENERO

FEBRERO

MARZO

4.- VIENE SANTA CLAUS



NOVIEMBRE

DICIEMBRE

ENERO

# GRACIAS