









Paglataya



Panuto: Alin ang nagpapakita ng tamang paghahati upang maipakita ang sangkapat o $\frac{1}{4}$ ng bawat set o pangkat ng mga bagay na ibinigay. Bilugan ang letra ng tamang sagot.





1. Ibinigay na set/pangkat 





A.    C.  

B. 


2. Ibinigay na set/pangkat 





A.  







B.    







C.    


Pangalan: _____ Palaro: _____
Pangalan ng Guro: _____ Pangkat: _____




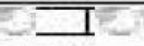
3. Ibinigay na set/pangkat 





A.    





B.      


C.      



4. Ibinigay na set/pangkat 






A.    

B.    

C.    

5. Ibinigay na set/pangkat 

A.  

B.     

C. 