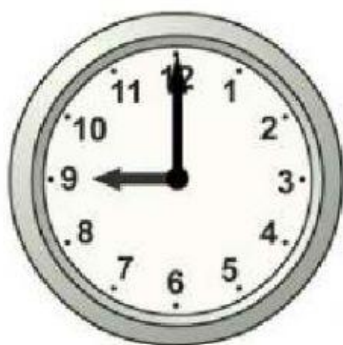


Coloca las horas en el reloj que le corresponde

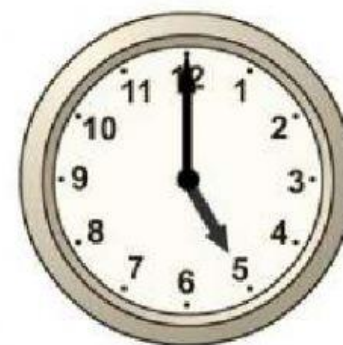






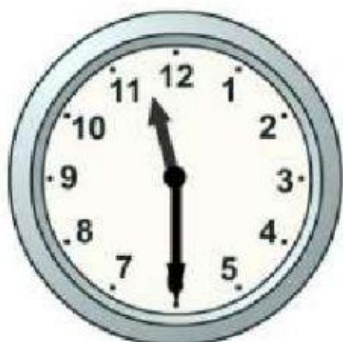






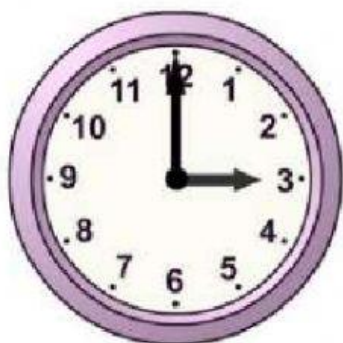
| | | |
|-------------|-------------|------------|
| 4 en punto | 11 en punto | 9 en punto |
| 10 en punto | 3 en punto | 5 en punto |

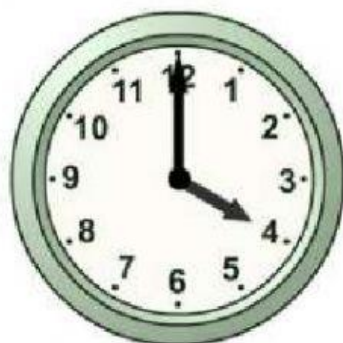
Coloca las horas en el reloj que le corresponde

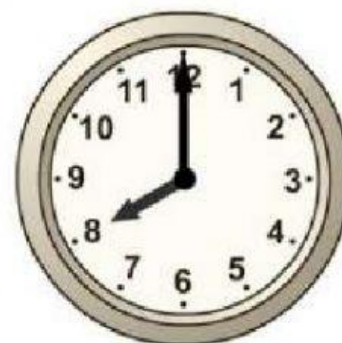






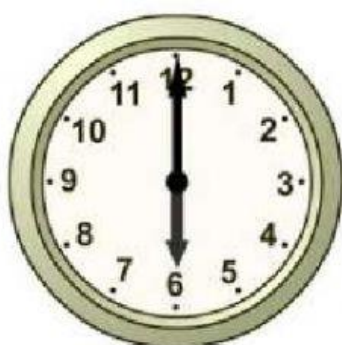




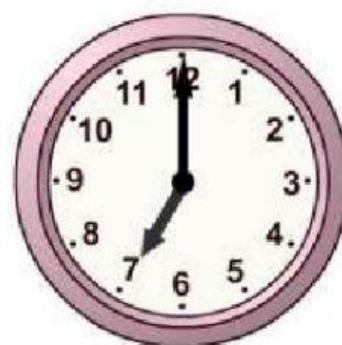


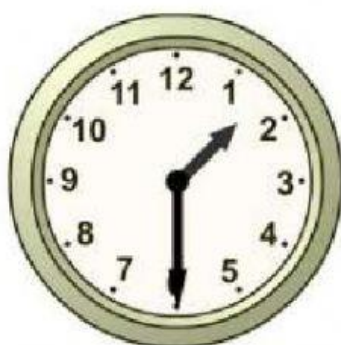
| | | |
|------------|------------|------------|
| 3 en punto | 3 y media | 9 y media |
| 4 en punto | 11 y media | 8 en punto |

Coloca las horas en el reloj que le corresponde

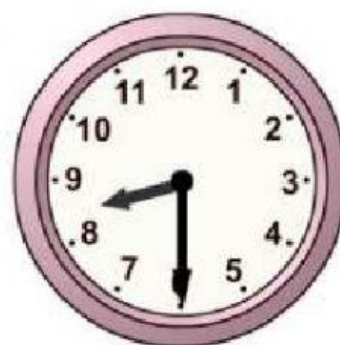












| | | |
|------------|------------|------------|
| 6 en punto | 4 y media | 7 en punto |
| 1 y media | 1 en punto | 8 y media |