



PENILAIAN TENGAH SEMESTER (PTS) GENAP
TAHUN PELAJARAN 2021/2022

Mata Pelajaran : Tema 6
Nama Siswa :
Kelas :

A. Jawablah pertanyaan di bawah ini dengan cara klik pada huruf A,B,C atau D yang kamu anggap benar!

- Dani tinggal di desa Sukarame. Dani adalah warga yang memiliki tanggung jawab. Di desa nya sedang melaksanakan kegiatan kerja bakti membersihkan sungai dan lingkungan. Sikap Dani sebaiknya.....
 a. Ikut melaksanakan kerja bakti
 b. Berpura-pura sakit agar tidak ikut kerja bakti
 c. Membuang sampah di sungai
 d. Menimbun sampah plastik di tanah
- Banyak jalan yang dilewati kendaraan-kendaraan bermotor mulai rusak berat. Lubang-lubang yang cukup besar ada di mana-mana. Aspal-aspal mulai rusak karena tidak dirawat. Hujan dan banjir menambah rusaknya jalan. Beban yang berlebihan yang diangkut truk dan bis ikut mempercepat rusaknya jalan. Ide pokok bacaan di atas adalah ...
 a. Akibat dari rusaknya jalan
 b. Penyebab kerusakan jalan
 c. Banyak jalan yang dilewati kendaraan
 d. Aspal jalan mulai rusak karena tak dirawat

3. Perhatikan gambar di bawah ini!



Peralatan memasak diatas adalah contoh benda yang dapat menghantar panas. Benda yang dapat menghantarkan panas disebut ...

- a. Isolator
 b. Konduktor
 c. Konveksi
 d. Radiasi

4. **Bangunan Liar**

Bangunan liar sering kita jumpai berada di atas saluran air, di trotoar, di taman-taman kota dan di kolong-kolong jalan layang. Pada umumnya bangunan liar berupa bangunan sementara yang didirikan di tempat yang tidak seharusnya. Hal ini akan menyebabkan masalah kesehatan dan kebersihan lingkungan yang menimbulkan ketidaknyamanan masyarakat pada umumnya.

Berdasarkan teks bacaan diatas dampak negative pembangunan liar adalah...

- a. Tata letak kota/ daerah menjadi lebih rapi
 b. Banyak rumah penduduk
 c. kesehatan dan kebersihan kurang terjaga
 d. nyaman di jadikan tempar tinggal.

5. Perhatikan gambar sampul buku disamping! Ilustrasi yang sesuai dengan sampul buku disamping adalah



- a. Satu anak yang sedang mendengarkan music dari telepon genggam dan alat pemutar music
 b. Ayah,ibu dan anak laki-laki yang libur ke pantai
 c. Satu anak yang sedang mencatat hasil kegiatan
 d. Satu anak yang sedang baca puisi di depan kelas

B. Pilihlah tanda B jika jawabannya benar, dan tanda S jika jawabannya salah!

6.

No	Pernyataan	Benar	Salah
a.	Menghormati perbedaan agama di masyarakat merupakan alah satu contoh sikap tanggung jawab sebagai warga negara berkaitan dengan sila pertama Pancasila	B	S
b.	mendapatkan kasih saying merupakan salah satu kewajiban anak	B	S

7. Hubungan manusia dengan sungai jelas tak bisa dipisahkan. Di tepian beberapa sungai manusia membuat rumah terapung. Di Kalimantan sebutannya lanting sementara di sepanjang Sungai Musi, Palembang, disebut rakit. Masyarakat rumah terapung ini benar-benar memanfaatkan sungai untuk kehidupannya. Kini, rumah terapung dipertahankan keberadaannya sebagai objek wisata. Ringkasan bacaan tersebut adalah

No	Pernyataan	Benar	Salah
a.	Rumah terapung adalah contoh ketergantungan manusia dengan sungai	B	S
b.	Rumah terapung dijadikan objek wisata	B	S

8. Suhu menunjukkan derajat panas benda. Semakin tinggi suhu suatu benda, semakin panas benda tersebut. Suhu menunjukkan energi yang dimiliki oleh suatu benda. Energi panas dapat mengubah benda. Beberapa benda akan mengalami pemuaian, dan sebaliknya ada beberapa benda yang mengalami penyusutan.

No	Pernyataan	Benar	Salah
a.	Semakin tinggi suhu suatu benda, semakin panas benda tersebut.	B	S
b.	Semakin rendah suhu suatu benda, semakin dingin benda tersebut.	B	S

9. **Sampah**

Salah satu kebiasaan tak terpuji adalah membuang sampah sembarangan. Misalnya, siswa membuang bungkus permen dan makanan di ruang kelas, di halaman sekolah atau di selokan dekat sekolah. Warga masyarakat membuang sampah dapur di parit, di saluran air atau di sungai. Sampah pasar, sampah toko, dan sampah kantor, banyak berserakan sampai ke jalan raya, karena tak tertampung di bak sampah. Hal ini terjadi, karena banyak orang tidak bertanggung jawab menjaga lingkungan mereka dengan membuang sampah sembarangan.

No	Pernyataan	Benar	Salah
a.	Masalah sampah terjadi karena banyak orang tidak bertanggung jawab menjaga lingkungan mereka dengan membuang sampah sembarangan.	B	S
b.	Salah satu cara menjaga agar masalah sampah tidak terjadi adalah dengan cara membuang sampah di tempat sampah	B	S

10. Perhatikan gambar di bawah ini. !



No	Pernyataan	Benar	Salah
a.	Gambar diatas di buat menggunakan teknik kering dengan media crayon.	B	S
b.	Gambar diatas di buat menggunakan teknik kering dengan media pensil.	B	S

- C. Pasangkan soal di tabel sebelah kiri dengan tabel sebelah kanan dengan menarik dan meletakkannya pada kotak yang sudah di sediakan!

No	Pernyataan	Jawaban
11.	Bangunan liar sering kita jumpai berada di atas saluran air, trotoar, di kolong jalan layang. Hal ini menyebabkan masalah dalam kesehatan dan kebersihan lingkungan yang menimbulkan ketidaknyamanan masyarakat pada umumnya. Paragraf tersebut merupakan salah satu akibat karena masyarakat tidak memiliki rasa.....terhadap lingkungan	Siapa
12.	Pada hari Minggu, warga di daerah tempat tinggal Edo mengadakan kerja bakti. Kata tanya yang digunakan untuk menanyakan orang yaitu....	Tanggung Jawab
13.	Ketika sedang memasak sayur, ibu menggunakan adukan sayur yang terbuat dari gagang kayu. Adukan dengan gagang kayu dipilih ibu karena.....	Kayu tidak menghantarkan panas dengan baik
14.	Pemerintah giat melakukan pelatihan usaha untuk masyarakat. Hal ini adalah salah satu cara upaya mengatasi masalah sosial berupa.....	Memperindah pertunjukan tari
15.	Salah satu fungsi Pola lantai yaitu....	Pengangguran

- D. Jodohkanlah soal dibawah ini dengan jawaban yang tepat dengan cara menarik garis dari kata yang terdapat di kolom sebelah kiri dengan kata yang terdapat pada kolom sebelah kanan !

16. Pasangkanlah dengan garis antara pernyataan yang mencerminkan pengamalan nilai – nilai Pancasila dengan sila – sila pancasila yang sesuai!

Sila I	✳
Sila II	✳
Sila III	✳

<input type="radio"/> mempersilakan teman untuk melaksanakan ibadah
<input type="radio"/> melaksanakan upacara bendera dengan khitmat
<input type="radio"/> menjenguk teman yang sedang sakit

17. Pasangkanlah kata tanya dibawah ini sesuai dengan fungsinya dengan cara menarik garis lurus!

Apa	✳
Siapa	✳
Dimana	✳

<input type="radio"/> Kata tanya yang digunakan untuk menanyakan benda
<input type="radio"/> Kata tanya yang digunakan untuk menanyakan tempat
<input type="radio"/> Kata tanya yang digunakan untuk menanyakan orang

18. Perpindahan panas terjadi dengan 3 cara yaitu konduksi, konveksi dan radiasi. perpindahan panas tersebut dilakukan dengan zat perantara/ benda ada juga yang tanpa menggunakan zat perantara. Konduksi adalah cara perpindahan panas melalui zat perantara seperti benda padat. Konveksi adalah perpindahan panas yang disertai dengan perpindahan bagian zat perantaranya. Sedangkan radiasi adalah cara perpindahan panas dengan pancaran yang tidak membutuhkan zat perantara.

Pasangkan benda- benda dibawah ini sesuai dengan contoh dan sifatnya dalam menghantarkan panas dengan cara menarik garis lurus!

Radiasi	✱
Konduksi	✱
Konveksi	✱

o ujung sendok yang dipanaskan maka ujung lainnya ikut panas
o angin darat dan angin laut
o Sinar matahari yang sampai ke bumi




19. Setiap warga negara, mempunyai tanggung jawab yang harus dilaksanakan sesuai perannya di dalam masyarakat. Apabila setiap masyarakat tidak memiliki tanggung jawab, maka akan timbul masalah sosial. **Pasangkan jenis masalah sosial dibawah ini dan penyebabnya dengan cara menarik garis lurus!**

Jenis Masalah Sosial	
Sungai yang kotor	✱
Kemacetan	✱
Pengangguran	✱

Penyebab	
o Kurangnya lapangan pekerjaan	
o Membuang sampah di sungai	
o Pengendara tidak mematuhi peraturan lalu lintas	

20. Pola lantai merupakan garis yang dilalui penari pada saat melakukan gerak tari. Dalam tarian, terdapat dua pola garis dasar pada lantai, yaitu garis lurus dan lengkung. Pola garis lurus terdiri atas pola lantai horizontal, vertikal, dan diagonal. Pola lantai garis lengkung antara lain berupa lingkaran, angka delapan, garis lengkung ke depan, dan garis lengkung ke belakang

Pasangkan tarian dibawah ini dengan pola lantai yang di gunakan dengan cara menarik garis lurus!

Jenis masalah sosial	Penyebab
 Bari Saman – Aceh	✱ garis lengkung ke depan
 Tari Sekapur Sirih – Bengkulu	✱ garis diagonal
	✱ garis horisontal

E. Isilah titik-titik di bawah ini dengan jawaban yang tepat!

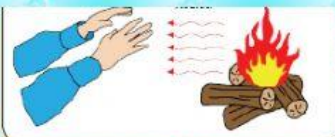


21. Pada hari Minggu, warga di daerah tempat tinggalmu mengadakan kerja bakti. Mereka membersihkan sampah-sampah yang menumpuk. Selama ini bau busuk dari tumpukan sampah telah mencemari udara di lingkungan tempat tinggalmu itu. Warga harus menutup hidung saat melewati tumpukan sampah yang membusuk itu. Sebagai warga yang baik, kewajiban yang harus kamu lakukan agar tercipta suasana yang bersih antara lain....

22. Pada hari Minggu, warga di daerah tempat tinggal Edo mengadakan kerja bakti. Mereka membersihkan sampah-sampah yang menumpuk. Selama ini bau busuk dari tumpukan sampah telah mencemari udara di lingkungan tempat tinggal itu. Warga harus menutup hidung saat melewati tumpukan sampah yang membusuk itu.

Kata tanya yang digunakan untuk menanyakan waktu pelaksanaan kerja bakti diatas adalah....

23.



Perhatikan gambar disamping!

Gambar panas api unggun yang menghangatkan tangan disamping adalah contoh dari peristiwa perpindahan panas secara....

24.



Berdasarkan gambar disamping, dampak / akibat dari interaksi negatif manusia dengan lingkungannya menyebabkan....

25. Beberapa lagu daerah dimainkan dalam tangga nada pentatonik yaitu slendro dan pelog. Tangga nada pentatonik pelog bersifat tenang dan khitmat, sedangkan tangga nada pentatonic slendro bersifat riang dan gembira. Berdasarkan informasi yang terdapat pada paragraf diatas, termasuk kedalam jenis tangga nada pentatonik apakah lagu yang terdapat pada video di bawah ini....

Klik dan perhatikan video berikut!!

Selamat mengerjakan