

Agrupamento de Escolas de Coruche

Agrupamento de Escolas de Salvaterra de Magos

Ficha de trabalho de exemplo

Nome: _____

4. Liga os números à sua leitura:

983	•	60+9
108	•	Novacentos e oitenta e três
240	•	Duzentos e quarenta
69	•	1 centena e 8 unidades

6. Escreve à frente de cada nome a palavra do quadro que o qualifica.

perfumadas	verde	fresca	compridos
-------------------	--------------	---------------	------------------

relva - _____

flores - _____

água - _____

cabelos - _____

CAÇA PALAVRAS SS

D	E	S	R	E	S	S	U	I	S	E	O	S
O	D	G	V	B	Ú	S	S	O	L	A	S	V
P	E	R	A	S	T	E	Ç	G	S	O	S	A
L	Z	E	B	C	O	D	E	F	S	S	S	S
Ç	E	S	O	L	H	S	C	E	U	R	I	S
U	S	U	S	O	J	F	S	A	I	G	N	O
T	S	G	A	E	E	G	V	O	A	F	J	U
E	E	S	S	W	R	H	B	R	R	D	R	R
W	I	S	P	Ê	S	S	E	G	O	R	E	A
D	S	O	S	Q	D	J	R	L	V	E	D	S

Completa as frases com as seguintes palavras:

Semeadas plantadas espontaneamente

Existem plantas que nascem _____, outras que

são _____ e outras que são _____ pelo homem.

2. Assinala com **X** as frases que demonstram comportamentos que ajudam a manter a saúde do corpo.

Comer devagar e mastigar bem os alimentos.

Consumir bebidas alcoólicas.

Tomar banho com frequência.

Praticar exercício físico.

Fumar e consumir outras drogas.

1. Assinala com um **X** os números com as seguintes leituras:

a) Seiscentos e quarenta e sete

87

748

647

487

b) Quinhentos e sessenta e um

196

961

96

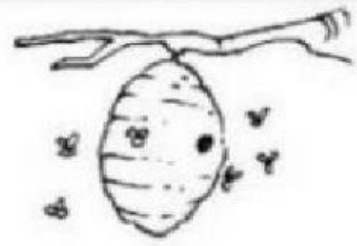
561

3. Completa a tabela.


	Masculino	Feminino
Nomes	galo	
		cadela
	cavalo	




cat ●



bird ●




mouse ●



dog ●



bee ●





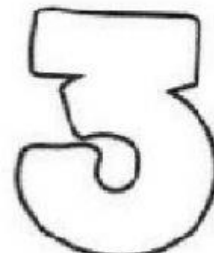
zero



one



two



three

10.1. Na tua opinião, porque é que a fada sorriu?
