



EXAMEN DEL SEGUNDO QUIMESTRE

ÁREA: CIENCIAS NATURALES

ASIGNATURA CIENCIAS NATURALES

FECHA: DE

DEL 2022

GRADO: SÉPTIMO EGBM PARALELO: "A"

ESTUDIANTE: \_\_\_\_\_

DOCENTE: LCDA. BELLA BANCHÓN PALMA

MSC. MA. ELENA CALDERÓN PROAÑO

TEMA 1.- CATÁSTROFES CLIMÁTICAS

1.- UNE LAS IMAGENES CON EL RESPECTIVO ENUNCIADO



SEQUIAS

INUNDACIÓN

INCENDIO

SISMO

ERUPCIÓN VOLCÁNICA

TSUNAMI



2.- SELECCIONA DENTRO DEL PARÉNTESIS UNA V SI ES VERDADERO O UNA F SI ES FALSO SEGÚN CORRESPONDA.

- a. Las casas destruidas por las erupciones volcánicas o un terremoto, a menudo quedan irreparables. (\_\_\_\_)
- b. Todos los desastres naturales causan por igual pérdidas de vidas humanas. (\_\_\_\_)
- c. Los campos saturados de agua salada después de tsunamis tardan años para poderse cultivar de nuevo. (\_\_\_\_)

TEMA 2.- CICLO DE VIDA DE LAS PLANTAS

1.- ESCOGE LA PALABRA CORRECTA PARA COMPLETAR LOS SIGUIENTES CONCEPTOS.

flor

sexual

polen

reproducción

flores

asexual

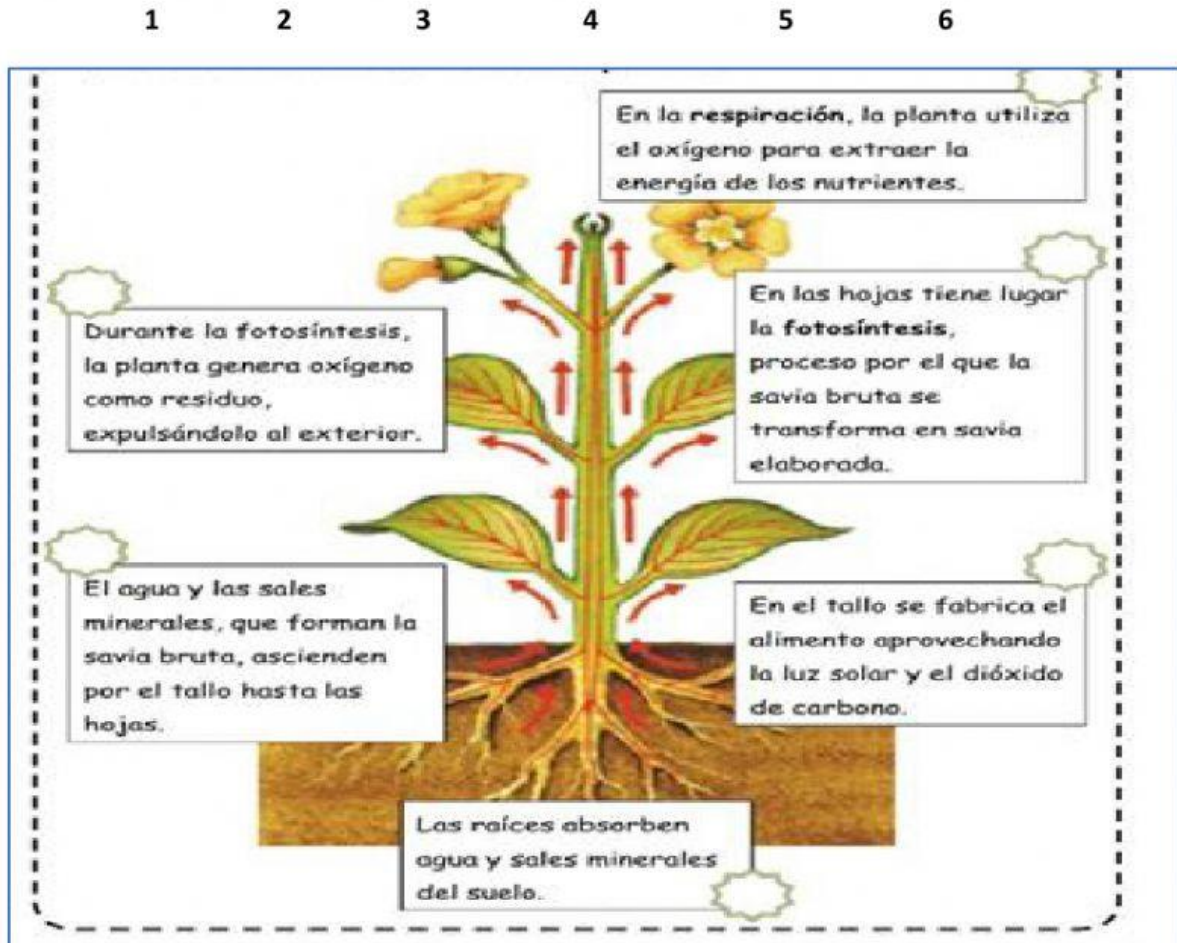
a) Existen dos tipos de \_\_\_\_\_ de las plantas: sexual y \_\_\_\_\_

b) Tras germinar, el \_\_\_\_\_ da lugar a una nueva \_\_\_\_\_



c) En la reproducción \_\_\_\_\_ el ciclo de reproducción de las plantas tiene lugar a través de las \_\_\_\_\_

2.- UBICA DEL 1 AL 6 LOS PROCESOS QUE TIENEN LUGAR EN LA FOTOSÍNTESIS.



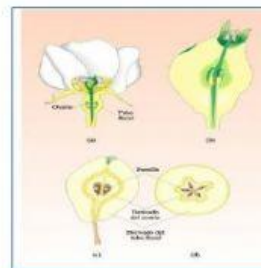
3.- UBICA DEBAJO DE CADA GRÁFICO EL PROCESO QUE CORRESPONDE A LA REPRODUCCIÓN SEXUAL DE LAS PLANTAS.

FORMACIÓN DEL FRUTO

POLINIZACIÓN

FECUNDACIÓN

GERMINACIÓN







### TEMA 3.- LA SEXUALIDAD

#### 1.- UBICA LA PARTE QUE CORRESPONDA EN EL RESPECTIVO APARATO REPRODUCTOR.

TROMPAS DE FALOPIO

TESTÍCULOS

UTERO

PENE

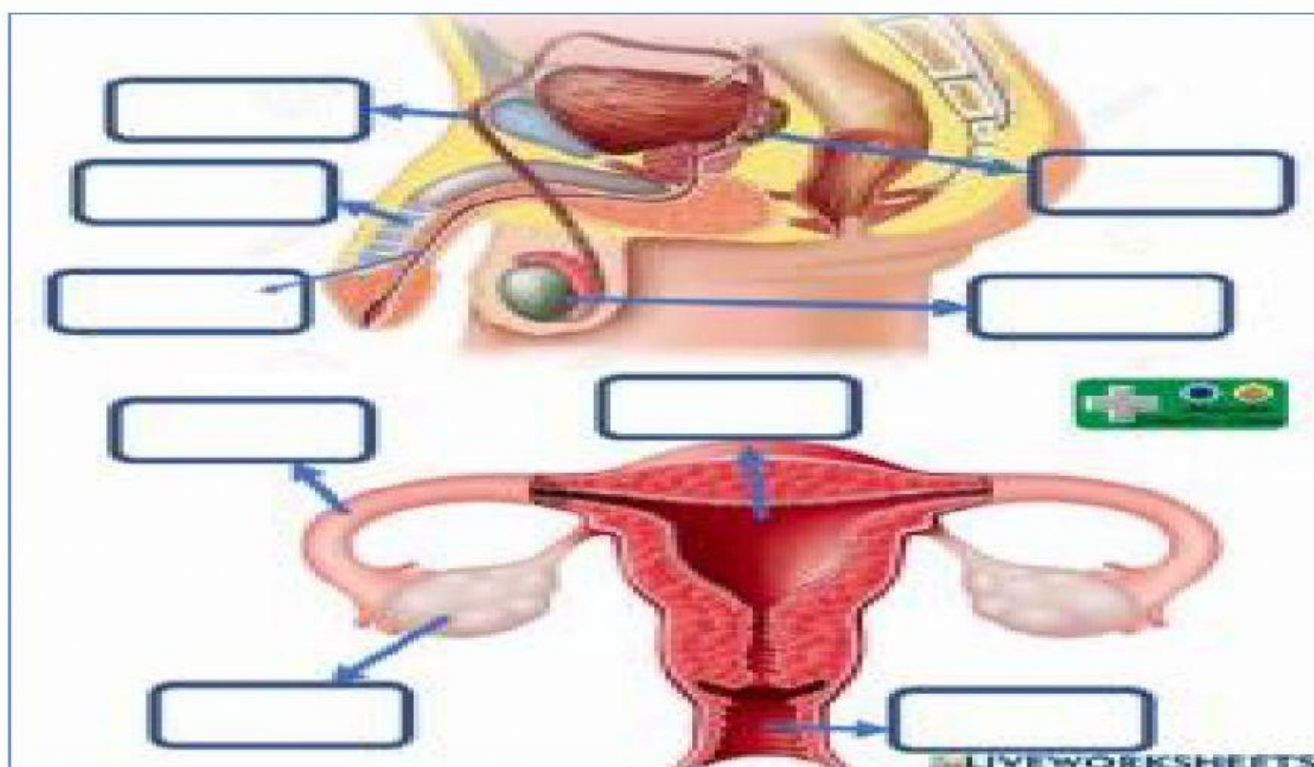
OVARIOS

URETRA

VAGINA

VESICULAS SEMINALES

CONDUCTORES DEFERENTES



#### 2.-SELECCIONA LA RESPUESTA CORRECTA DE LA REPRODUCCION HUMANA.

A) LA REPRODUCCIÓN EN LOS SERES HUMANOS ES:

A) SEXUAL

B) ASEXUAL

B) EL PARTO SE PRODUCE AL FINAL DEL:

A) NOVENO MES DEL EMBARAZO

B) SÉPTIMO MES DEL EMBARAZO

C) EL ÓVULO SE ENCUENTRA CON UN ESPERMATOZOIDE EN:

A) LOS OVARIOS

B) LAS TROMPAS DE FALOPIO

D) LA MAYORÍA DE CHICAS Y CHICOS HAN COMPLETADO EL DESARROLLO DEL APARATO REPRODUCTOR

A) ENTRE LOS 16 Y 18 AÑOS

B) ENTRE LOS 20 Y 22 AÑOS



#### TEMA 4: ECOSISTEMAS Y SUS COMPONENTES

##### 1.-COMPLETA LOS ENUNCIADOS CON LOS TÉRMINOS ADECUADOS.

Ecosistemas mixtos

Ecosistemas acuáticos

Ecosistemas terrestres

- a. Los \_\_\_\_\_ se desarrollan en la superficie de los continentes, como los bosques, las praderas o el desierto.
- b. Los \_\_\_\_\_ son aquellos que se desarrollan en zonas intermedias entre el medio terrestre y el medio acuático.
- c. Los \_\_\_\_\_ se desarrollan en el agua, ya sea en los mares y los océanos o en las aguas del interior de los continentes.

##### 2.-RELACIONA LA COLUMNA A CON LOS CONCEPTOS CORRESPONDIENTE DE LA B.

A

DEPREDACIÓN

COMPETENCIA

COOPERACIÓN

B

Se establece entre dos especies que se ayudan entre sí y obtienen un beneficio mutuo.

Un animal se alimenta de otro animal (su presa).

Se da entre dos animales que luchan por un mismo recurso.

Hecho por Lcda. Bella Banchón