
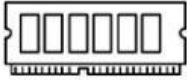

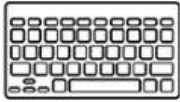


Actividad 1. Relacione con una línea la imagen que representa el dispositivo que interviene en cada una de las funciones de la computadora con el nombre de la tarea que ejecuta.

	•	•	Entrada de datos
	•	•	Procesamiento de datos
	•	•	Almacenamiento de datos
	•	•	Salida de datos

Actividad 2 Clasifique y ordene los dispositivos según la función en el que pueden participar, colóquelos siguiendo el orden en el que se da cada una de las tareas.

Entrada de datos	Almacenamiento de datos	
Salida de datos	Procesamiento de datos	
