

Materi Tema 7 Subtema 1 Pembelajaran 5



Materi Tema 7 Subtema 1 Pembelajaran 6



LKPD Tema 7 Subtema 1 Pembelajaran 5 dan 6

1. Carilah arti kata tersebut menggunakan kamus! Kamu bisa minta bantuan pada orang tua atau gurumu.

Daya tahan artinya

Teknologi artinya

Pengemasan artinya

Kedap udara artinya

Buat kalimat baru menggunakan kata-kata di atas!

1. Daya tahan

2. Teknologi

3. Pengemasan

4. Kedap udara

2. Siapkan alat ukur berupa gelas plastik berukuran sama.

Ukur volume dari air minum di setiap botol minum.


Tunjukkan volume air dari setiap botol dengan mewarnai batas air seperti pada gambar di bawah ini.

contoh :




Amati gambar berikut!

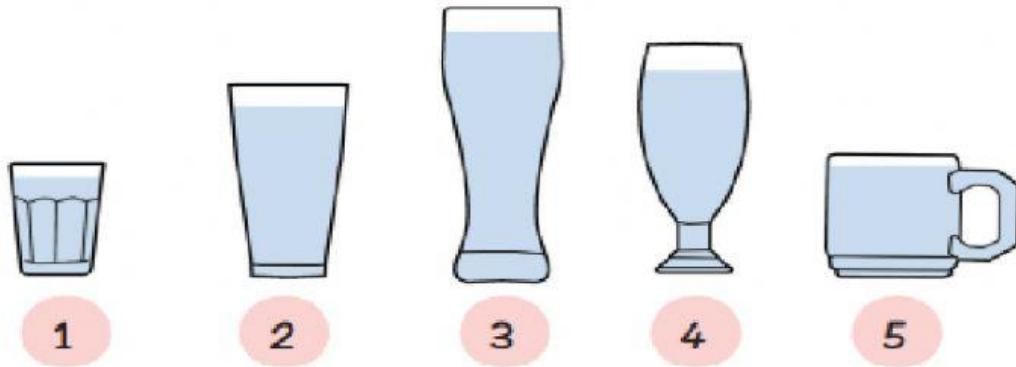
Lingkari gambar yang memiliki volume lebih banyak!



Amati gambar berikut!



Urutkan kotak susu di atas mulai dari kotak yang bervolume paling sedikit hingga kotak yang bervolume paling banyak!



Urutkan mulai dari gelas yang memiliki volume paling banyak hingga volume yang paling sedikit!

_____ , _____ , _____ , _____ , _____ , _____

3. Tulislah jawabannya saja di buku Tema!

Lengkapi kalimat di bawah ini!

Gunakan kata-kata dalam kotak untuk membantumu.

Tempe merupakan salah satu makanan yang diolah melalui _____ pangan. Bahan utamanya adalah kacang _____ dan ragi tempe. Ragi tempe berguna dalam _____ perubahan dari kacang kedelai menjadi tempe. Ragi tempe ditaburkan di atas kacang kedelai saat _____ kacang kedelai rebus telah turun menjadi hangat. Setelah satu atau dua hari, kedelai akan berubah menjadi tempe.


_____ tempe akan memberikan manfaat yang baik bagi tubuh.


konsumsi kedelai teknologi proses suhu

4. Tulislah jawabannya saja di buku Tema!


Jika air gelas dituangkan ke dalam panci, tariklah garis volume air mulai dari yang lebih banyak dan terakhir yang lebih sedikit!


1







2







3







4





5





Susunlah volume air mulai dari yang terbanyak sesuai angka diatas!

5. Tulislah jawabannya saja di buku tema!

Sikap yang perlu ditiru memberikan akibat yang positif atau baik.

Sikap yang harus dihindari adalah sikap yang dapat memberikan akibat negatif atau tidak baik.

- Muncul sikap tenggang rasa
- Berbeda pendapat
- Perang antar suku bangsa
- Memahami perasaan orang lain
- Saling melengkapi satu sama lain
- Memicu pertengkaran
- Menghargai perbedaan
- Memaksakan kehendak
- Memperkaya wawasan
- Tidak mau bersatu

Tuliskan kembali sikap yang perlu ditiru dan dihindari jika terdapat perbedaan pada tabel berikut!

Perlu Ditiru	Perlu Dihindari