

3 Xem lịch dự báo thời tiết trong tháng 7, trả lời các câu hỏi:
































a) Những ngày nào có thể có mưa?

--	--	--	--	--	--	--	--	--

b) Hồng muốn chọn một tuần có nhiều ngày có thể nắng để đi du lịch biển. Hỏi Hồng nên chọn từ ngày nào đến ngày nào?

Trả lời: Hồng nên chọn từ

ngày đến ngày .

Lịch thời tiết tháng 7						
Thứ Hai	Thứ Ba	Thứ Tư	Thứ Năm	Thứ Sáu	Thứ Bảy	Chủ nhật
				 1	 2	 3
 4	 5	 6	 7	 8	 9	 10
 11	 12	 13	 14	 15	 16	 17
 18	 19	 20	 21	 22	 23	 24
 25	 26	 27	 28	 29	 30	 31